




LÊ ANH VINH (Chủ biên)
NGUYỄN ÁNG – VŨ VĂN DƯƠNG – NGUYỄN MINH HẢI
HOÀNG QUẾ HƯỜNG – VŨ VĂN LUÂN – BÙI BÁ MẠNH

Vở bài tập TOÁN 3

TẬP MỘT

$$\begin{array}{r} 105 \times 3 \\ 315 : 3 \end{array}$$



NHÀ XUẤT BẢN GIÁO DỤC VIỆT NAM

LÊ ANH VINH (Chủ biên)
NGUYỄN ÁNG – VŨ VĂN DƯƠNG – NGUYỄN MINH HẢI
HOÀNG QUẾ HƯỜNG – VŨ VĂN LUÂN – BÙI BÁ MẠNH

Vở bài tập TOÁN 3

TẬP MỘT

KẾT NỐI TRI THỨC
VỚI CUỘC SỐNG

NHÀ XUẤT BẢN GIÁO DỤC VIỆT NAM



LỜI NÓI ĐẦU

Vở bài tập Toán 3 được biên soạn dành riêng cho các em, giúp các em củng cố, hoàn thiện nội dung đã học trong sách giáo khoa Toán 3.

Vở bài tập Toán 3 chủ yếu gồm các bài luyện tập, thực hành có cùng nội dung, mức độ như các bài tập trong sách giáo khoa Toán 3, chỉ khác về hình thức thể hiện và số liệu. Cách làm các bài tập trong vở này cũng tương tự như cách làm các bài tập trong sách giáo khoa. Ngoài ra, để đáp ứng nhu cầu phát triển năng lực học tập toán và giúp các em cảm nhận được niềm vui học toán, **Vở bài tập Toán 3** còn giới thiệu một số dạng bài tập kiểu mới.

Vì vậy, các em có thể làm bài ở vở này trong thực hành, luyện tập, ôn tập hoặc khi tự học.

Hi vọng cuốn vở này sẽ là người bạn đồng hành gắn bó với các em trong suốt năm học. Chúc các em học tập chăm chỉ và thành công nhé!

KẾT NỐI TRI THỨC
VỚI CUỘC SỐNG



MỤC LỤC

Trang

Bài 1. Ôn tập các số đến 1 000	5
Bài 2. Ôn tập phép cộng, phép trừ trong phạm vi 1 000	7
Bài 3. Tìm thành phần trong phép cộng, phép trừ.....	9
Bài 4. Ôn tập bảng nhân 2; 5, bảng chia 2; 5.....	11
Bài 5. Bảng nhân 3, bảng chia 3	13
Bài 6. Bảng nhân 4, bảng chia 4	15
Bài 7. Ôn tập hình học và đo lường	17
Bài 8. Luyện tập chung.....	21
Bài 9. Bảng nhân 6, bảng chia 6	26
Bài 10. Bảng nhân 7, bảng chia 7	28
Bài 11. Bảng nhân 8, bảng chia 8.....	30
Bài 12. Bảng nhân 9, bảng chia 9	32
Bài 13. Tìm thành phần trong phép nhân, phép chia	35
Bài 14. Một phần mấy.....	37
Bài 15. Luyện tập chung.....	41
Bài 16. Điểm ở giữa, trung điểm của đoạn thẳng.....	44
Bài 17. Hình tròn. Tâm, bán kính, đường kính của hình tròn	47
Bài 18. Góc, góc vuông, góc không vuông.....	48
Bài 19. Hình tam giác, hình tứ giác. Hình chữ nhật, hình vuông	49
Bài 20. Thực hành vẽ góc vuông, vẽ đường tròn, hình vuông, hình chữ nhật và vẽ trang trí.....	54
Bài 21. Khối lập phương, khối hộp chữ nhật.....	56

Bài 22. Luyện tập chung.....	58
Bài 23. Nhân số có hai chữ số với số có một chữ số.....	60
Bài 24. Gấp một số lên một số lần	62
Bài 25. Phép chia hết, phép chia có dư	64
Bài 26. Chia số có hai chữ số cho số có một chữ số	66
Bài 27. Giảm một số đi một số lần.....	69
Bài 28. Bài toán giải bằng hai bước tính	71
Bài 29. Luyện tập chung.....	74
Bài 30. Mi-li-mét.....	76
Bài 31. Gam.....	78
Bài 32. Mi-li-lít.....	80
Bài 33. Nhiệt độ. Đơn vị đo nhiệt độ.....	81
Bài 34. Thực hành và trải nghiệm với các đơn vị mi-li-mét, gam, mi-li-lít, độ C	82
Bài 35. Luyện tập chung.....	85
Bài 36. Nhân số có ba chữ số với số có một chữ số.....	88
Bài 37. Chia số có ba chữ số cho số có một chữ số.....	90
Bài 38. Biểu thức số. Tính giá trị của biểu thức số.....	94
Bài 39. So sánh số lớn gấp mấy lần số bé.....	98
Bài 40. Luyện tập chung.....	100
Bài 41. Ôn tập phép nhân, phép chia trong phạm vi 100, 1 000	102
Bài 42. Ôn tập biểu thức số.....	106
Bài 43. Ôn tập hình học và đo lường	109
Bài 44. Ôn tập chung.....	113

BÀI 1

ÔN TẬP CÁC SỐ ĐẾN 1 000

Tiết 1

1 ✎ Viết số và cách đọc số thích hợp vào ô trống (theo mẫu).

Trăm	Chục	Đơn vị	Viết số	Đọc số
3	7	5	375	ba trăm bảy mươi lăm
4	0	4		
7	3	1		
8	8	8		

2 ✎ Nói (theo mẫu).

Số gồm 7 trăm, 0 chục và 7 đơn vị.

984

Số gồm 2 trăm, 3 chục và 1 đơn vị.

555

Số gồm 5 trăm, 5 chục và 5 đơn vị.

707

Số gồm 9 trăm, 8 chục và 4 đơn vị.

231

3 ✎ Viết các số dưới đây thành tổng các trăm, chục và đơn vị.

139 = 321 =

803 = 950 =

777 = 614 =

4 ✎ Số ?

Số liền trước	Số đã cho	Số liền sau
	120	
	500	
120		
		300

5 ✎ Viết số thích hợp vào chỗ chấm để được ba số liên tiếp.

a) 35,,

b), 40,

35,,

....., 40,

Tiết 2

1 ✎ >; <; = ?

a) 770 707

b) 453 400 + 50 + 3

989 990

660 600 + 50 + 9

1 000 999

300 + 10 + 9 300 + 20

2 ✎ Số ?

a)

400	401	402				407		409
-----	-----	-----	--	--	--	-----	--	-----

b)

900	899	898					893		891
-----	-----	-----	--	--	--	--	-----	--	-----

3 ✎ Viết các số 786, 768, 867, 687 theo thứ tự:

a) Từ lớn đến bé:

b) Từ bé đến lớn:

4 ✎ Viết số thích hợp vào chỗ chấm.

Ba con gấu có cân nặng lần lượt là 243 kg, 231 kg, 234 kg. Biết gấu trắng nặng nhất, gấu nâu nhẹ hơn gấu đen. Vậy gấu trắng cân nặng kg; gấu nâu cân nặng kg; gấu đen cân nặng kg.

BÀI 2

ÔN TẬP PHÉP CỘNG, PHÉP TRỪ TRONG PHẠM VI 1 000

Tiết 1

1 ✎ Tính nhẩm.

a) $60 + 20 = \dots\dots$	b) $500 + 300 = \dots\dots$	c) $900 + 100 = \dots\dots$
$80 - 60 = \dots\dots$	$800 - 500 = \dots\dots$	$1\ 000 - 900 = \dots\dots$
$80 - 20 = \dots\dots$	$800 - 300 = \dots\dots$	$1\ 000 - 100 = \dots\dots$

2 ✎ Đặt tính rồi tính.

a) $47 + 53$	$100 - 35$	b) $275 + 18$	$482 - 247$
.....
.....
.....

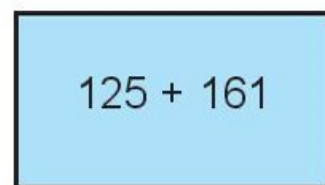
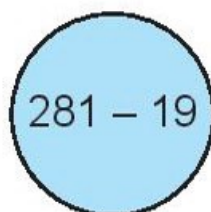
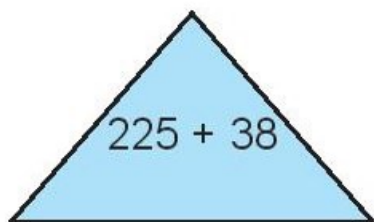
3 ✎ Con lợn cân nặng 75 kg, con chó cân nặng 25 kg. Hỏi:

a) Con lợn và con chó cân nặng tất cả bao nhiêu ki-lô-gam?

b) Con chó nhẹ hơn con lợn bao nhiêu ki-lô-gam?

Bài giải

4 ✎ Chọn câu trả lời đúng.



Phép tính ghi ở hình nào có kết quả lớn nhất?

A. Hình tam giác

B. Hình tròn

C. Hình chữ nhật

Tiết 2

1 Số ?

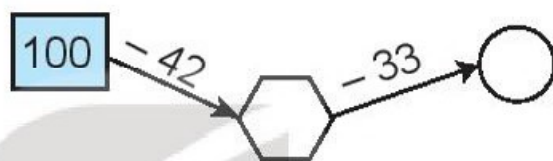
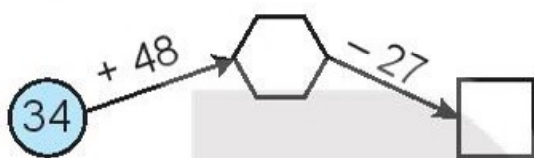
a)

Số hạng	216	308	451
Số hạng	432	327	173
Tổng			

b)

Số bị trừ	456	527	634
Số trừ	231	342	208
Hiệu			

2 Số ?



3 Viết A, B, C, D, E thích hợp vào chỗ chấm.







A
B
C
D
E

a) Bông hoa ghi phép tính có kết quả lớn nhất.

b) Bông hoa ghi phép tính có kết quả bé nhất.

c) Hai bông hoa và ghi hai phép tính có kết quả bằng nhau.

4 Một cửa hàng buổi sáng bán được 100 l nước mắm, buổi chiều bán ít hơn buổi sáng 25 l nước mắm. Hỏi:

a) Buổi chiều cửa hàng bán được bao nhiêu lít nước mắm?

b) Cả hai buổi cửa hàng bán được bao nhiêu lít nước mắm?

Bài giải

.....

.....

.....


.....

.....

BÀI 3

TÌM THÀNH PHẦN TRONG PHÉP CỘNG, PHÉP TRỪ


Tiết 1

1  Số ?


a) $\square + 14 = 31$

b) $45 + \square = 80$

c) $\square + 15 = 100$

2  Số ?

Số hạng	35	27	16		
Số hạng	14			36	68
Tổng		42	50	42	100

3  Một đội đồng diễn thể dục có 100 người, trong đó có 60 nữ. Hỏi đội đồng diễn đó có bao nhiêu nam?

Bài giải

.....

.....

.....

4  Số ?

$$12 + 28 + \square = 60$$

Tiết 2

1 ✎ Số ?

a) $\square - 25 = 56$

b) $\square - 35 = 47$

c) $\square - 18 = 82$

2 ✎ Số ?

a) $72 - \square = 28$

b) $45 - \square = 10$

c) $100 - \square = 64$

3 ✎ Số ?

Số bị trừ	72		36		100
Số trừ	18	24		27	
Hiệu		47	19	73	41

4 ✎ Rô-bốt có một số viên bi. Sau khi cho Việt 20 viên bi thì Rô-bốt còn lại 15 viên. Hỏi lúc đầu Rô-bốt có bao nhiêu viên bi?

Bài giải

KẾT NỐI TRI THỨC
VỚI CUỘC SỐNG

5 ✎ Trong thúng có 70 quả trứng. Sau khi mẹ bán đi một số quả trứng thì trong thúng còn lại 15 quả. Hỏi mẹ đã bán đi bao nhiêu quả trứng?

Bài giải

BÀI 4

ÔN TẬP BẢNG NHÂN 2; 5, BẢNG CHIA 2; 5

Tiết 1

1 Số ?

a)

Thừa số	2	2	2	2	2	2	2	2	2	2
Thừa số	1	3	5	7	9	2	4	6	8	10
Tích										

b)

Số bị chia	20	18	16	14	12	10	8	6	4	2
Số chia	2	2	2	2	2	2	2	2	2	2
Thương										

2 Số ?

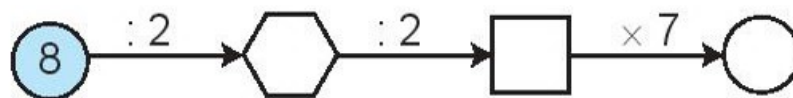
a)

2		6		10	12			18	20
---	--	---	--	----	----	--	--	----	----

b)

20	18		14				6	4	2
----	----	--	----	--	--	--	---	---	---

3 Số ?



4 Mỗi lọ hoa cắm 2 bông hoa cúc. Hỏi 6 lọ như vậy có bao nhiêu bông hoa cúc?

Bài giải

.....

.....

.....

Tiết 2

1 Số ?

a)

×	5	5	5	5	5	5	5	5	5	5
	1	3	5	7	9	2	4	6	8	10
	5									

b)

:	5	10	15	20	25	30	35	40	45	50
	5	5	5	5	5	5	5	5	5	5
	1									

2 Nói (theo mẫu).

5×9

$15 : 5$

$10 : 2$

3

45

5

35

9

40

5×7

5×8

$45 : 5$

3 >; <; = ?

a) 5×3 $40 : 5$

b) $45 : 5$ 2×6

c) $50 : 5$ 5×2

4 Cắm 50 bông hoa cúc vào các lọ, mỗi lọ 5 bông. Hỏi cắm được mấy lọ hoa cúc như vậy?

Bài giải

.....

.....

.....

BÀI 5

BẢNG NHÂN 3, BẢNG CHIA 3

Tiết 1

1  Số ?

×	3	3	3	3	3	3	3	3	3	3
	1	3	5	7	9	10	8	6	4	2
	3									


2  Số ?

a)

3	6	9			18		24		30
---	---	---	--	--	----	--	----	--	----

b)

30		24	21			12		6	3
----	--	----	----	--	--	----	--	---	---

3  Rô-bốt làm những chiếc khung hình tam giác bằng nan tre, mỗi khung cần 3 nan tre. Hỏi để làm 8 chiếc khung như vậy, Rô-bốt cần bao nhiêu nan tre?

Bài giải

.....

.....

.....

4  >; <; = ?

a) 3×5 5×3

b) 3×8 3×9

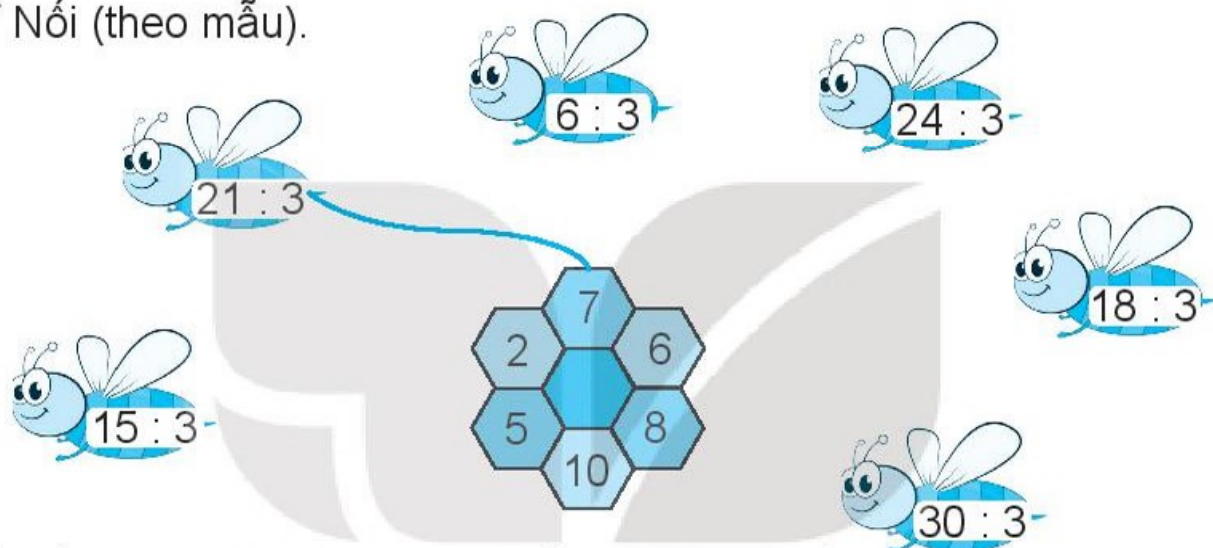
c) 3×7 3×6

Tiết 2

1 Số ?

:	3	9	21	6	15	18	12	30	24	27
	3	3	3	3	3	3	3	3	3	3
	1									

2 Nói (theo mẫu).



3 Nói hai phép tính có cùng kết quả (theo mẫu).

27 : 3 3 × 2 24 : 3 30 : 3 10 : 5
2 × 4 3 × 3 6 : 3 18 : 3 5 × 2

4 Một lớp học võ dân tộc có 30 bạn chia thành các nhóm, mỗi nhóm 3 bạn. Hỏi lớp học đó được chia thành bao nhiêu nhóm như vậy?

Bài giải

.....

.....

.....

BÀI 6

BẢNG NHÂN 4, BẢNG CHIA 4

Tiết 1

1 ✎ SỐ ?

Thừa số	4	4	4	4	4	4	4	4
Thừa số	6	5	8	3	10	7	9	4
Tích								

2 ✎ SỐ ?

a) 4 8 12 24 32 40

b) 40 32 28 16 8 4

3 ✎ Mỗi bàn ăn xếp 4 cái ghế. Hỏi 10 bàn ăn như vậy xếp bao nhiêu cái ghế?

Bài giải

.....

.....

.....

4 ✎ Viết số thích hợp vào chỗ chấm.

Mỗi con thỏ có 4 cái chân và 2 cái tai. Vậy 6 con thỏ có tất cả:

a) cái chân.

b) cái tai.

Tiết 2

1 Số ?

Số bị chia	12	24	20	36	32	8	40	28
Số chia	4	4	4	4	4	4	4	4
Thương								

2 Khoanh vào chữ đặt trước câu trả lời đúng.

Phép tính nào dưới đây có kết quả bé nhất?

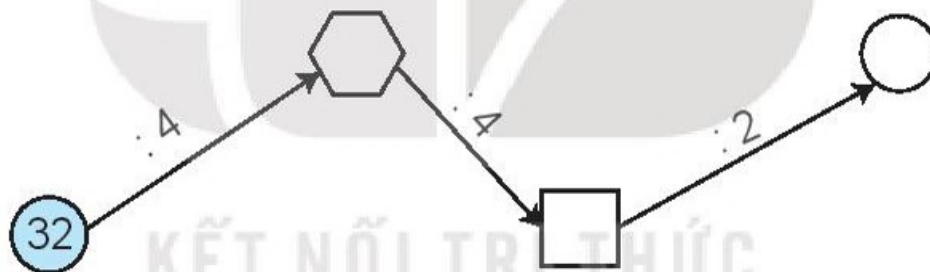
A. $24 : 4$

B. $32 : 4$

C. $12 : 4$

D. $20 : 4$

3 Số ?



4 Có một số xe ô tô con đang ở điểm đỗ xe. Bạn Nam đếm được có tất cả 16 bánh xe. Hỏi có bao nhiêu xe ô tô con đang ở điểm đỗ đó? Biết rằng mỗi xe ô tô con đều có 4 bánh xe.

Bài giải

.....

.....

.....

BÀI 7

ÔN TẬP HÌNH HỌC VÀ ĐO LƯỜNG

Tiết 1

1 ✎ a) Nói (theo mẫu).



b) Khoanh vào chữ đặt trước câu trả lời đúng.



Hình thích hợp đặt vào dấu “?” là:

- A. B. C. D.

2 ✎ Viết tiếp vào chỗ chấm (theo mẫu).

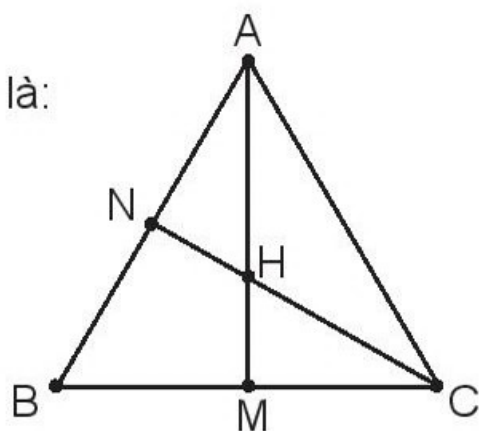
Ba điểm thẳng hàng có trong hình bên là:

A, N, B;

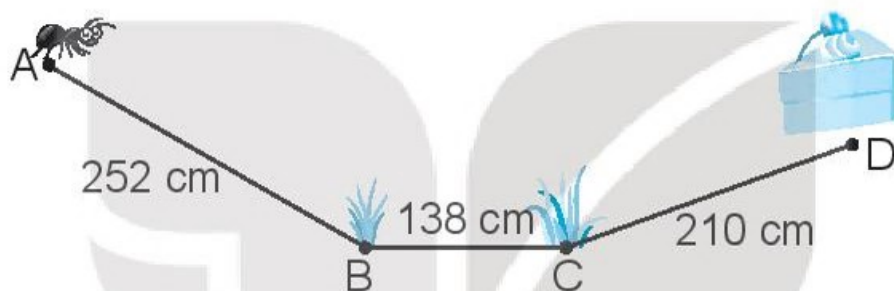
.....;

.....;

.....



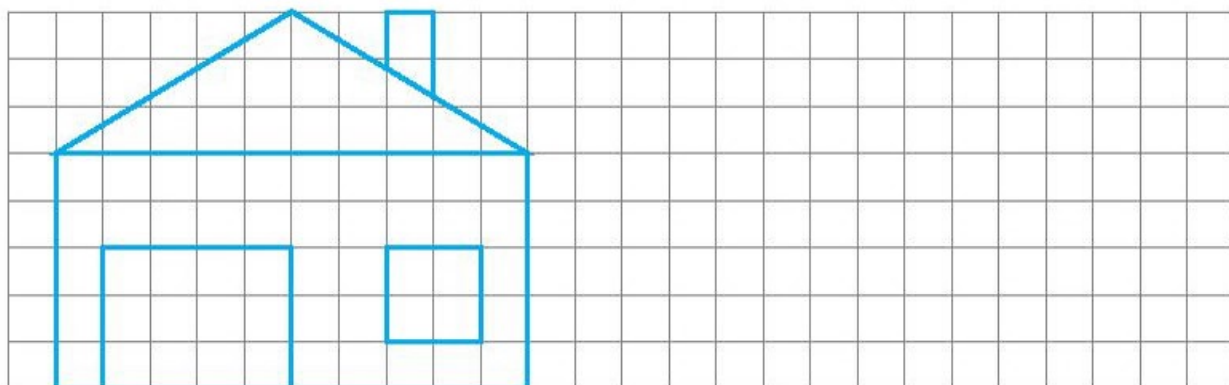
3 ✎ Con kiến bò đến miếng bánh theo đường gấp khúc ABCD. Tính độ dài quãng đường con kiến phải bò.



Bài giải

.....
KẾT NỐI TRI THỨC
VỚI CUỘC SỐNG
.....

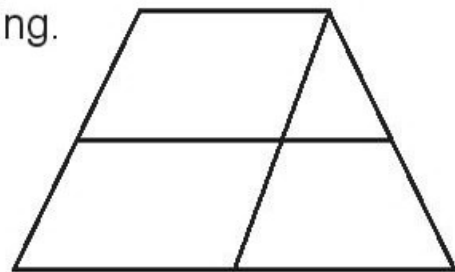
4 ✎ Vẽ hình (theo mẫu).



5 ✎ Khoanh vào chữ đặt trước câu trả lời đúng.

Số hình tứ giác có trong hình bên là:


- A. 8 B. 7
C. 5 D. 6



Tiết 2

1 ✎ Số ?

a)



– Quả dưa hấu cân nặng kg. Quả sầu riêng cân nặng kg.

– Quả sầu riêng nhẹ hơn quả dưa hấu kg.

b) Hai can bên chứa đầy nước mắm.

– Cả hai can có l nước mắm.

– Can to đựng nhiều hơn can bé l nước mắm.



2 ✎ Khoanh vào chữ đặt trước câu trả lời đúng.

a) Đồng hồ bên đổ chuông lúc:

- A. 7 giờ 6 phút B. 7 giờ 30 phút
C. 6 giờ 7 phút D. 6 giờ 8 phút

b) Nếu ngày 14 tháng 10 là thứ Bảy thì ngày 20 tháng 10 (ngày Phụ nữ Việt Nam) là:

- A. Thứ Tư B. Thứ Năm C. Thứ Sáu D. Thứ Bảy



- 3/ Cô Bình mua về 15 kg gạo. Biết rằng mỗi tuần gia đình cô Bình ăn hết 5 kg gạo. Hỏi gia đình cô Bình ăn trong mấy tuần thì hết số gạo đó?

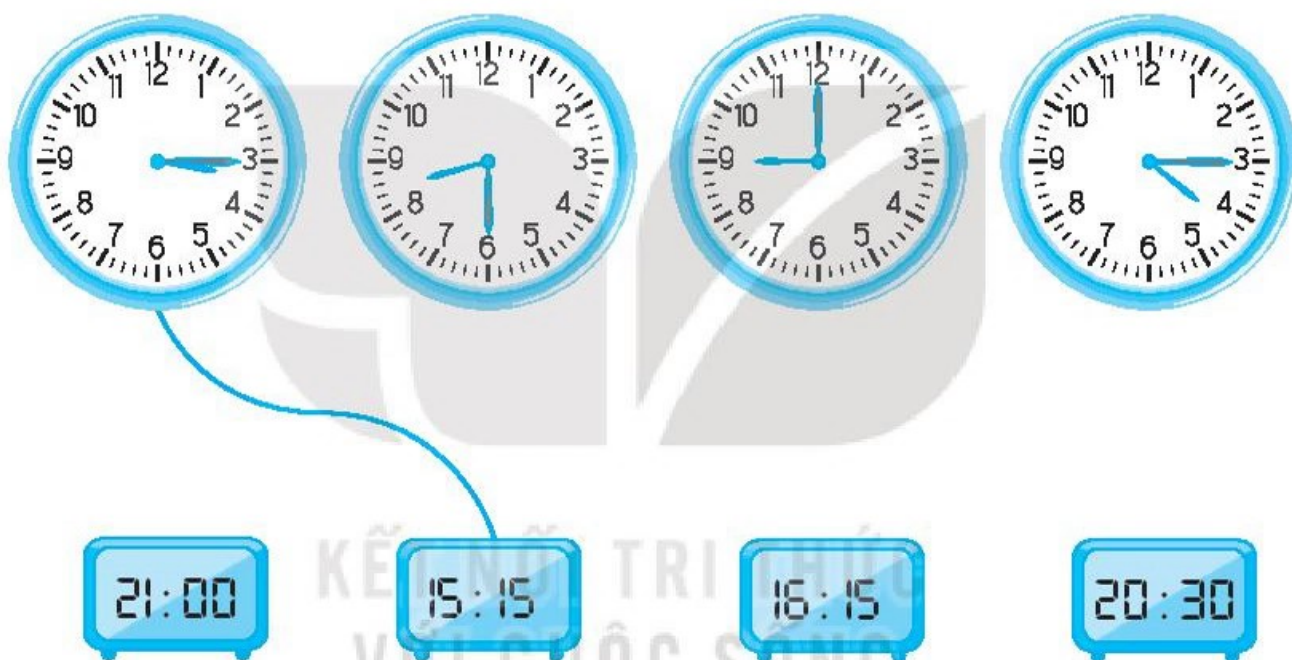
Bài giải

.....

.....

.....

- 4/ Nối hai đồng hồ chỉ cùng giờ vào buổi chiều hoặc buổi tối (theo mẫu).



- 5/ Có một can 2 l và một can 5 l. Chỉ dùng hai cái can đó, làm thế nào lấy được 1 l nước từ bể nước?

Cách làm

.....

.....

.....

.....

.....

Tiết 1

1 a) Viết tên các con vật dưới đây theo thứ tự cân nặng từ lớn đến bé.



Gấu đen: 118 kg



Báo hoa: 85 kg



Linh dương: 520 kg



Cá sấu: 246 kg

b) Viết số thành tổng các trăm, chục và đơn vị (theo mẫu).

Mẫu: $457 = 400 + 50 + 7$

285 =

666 =

309 =

710 =

2 Đặt tính rồi tính.

a) $38 + 45$

$463 + 82$

$638 + 254$

.....

.....

.....

.....

.....

.....

.....

.....

.....

b) $175 - 92$

.....

$595 - 346$

.....

$739 - 683$

.....

3 Trường Tiểu học Nguyễn Trãi có 674 học sinh, Trường Tiểu học Nguyễn Huệ có nhiều hơn Trường Tiểu học Nguyễn Trãi 45 học sinh. Hỏi Trường Tiểu học Nguyễn Huệ có bao nhiêu học sinh?

Bài giải

.....

4 Số ?

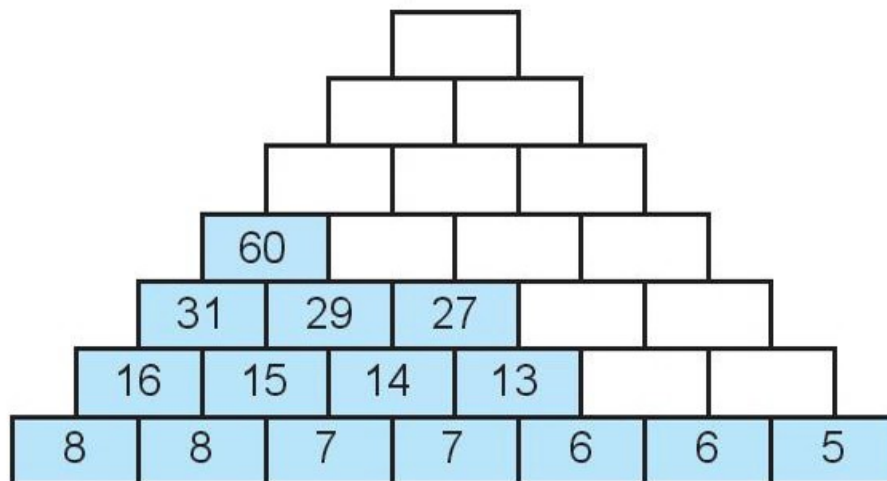
a)

Số hạng	58	38	
Số hạng	23		64
Tổng		91	136

b)

Số bị trừ	72	65	
Số trừ	38		46
Hiệu		27	219

5 Số ?



Tiết 2

1 a) Tính nhẩm.

$5 \times 1 = \dots\dots \quad 4 \times 1 = \dots\dots \quad 2 \times 1 = \dots\dots \quad 3 \times 1 = \dots\dots$

$5 : 1 = \dots\dots \quad 4 : 1 = \dots\dots \quad 2 : 1 = \dots\dots \quad 3 : 1 = \dots\dots$

b) Viết tiếp vào chỗ chấm cho thích hợp.

Nhận xét: • Số nào nhân với 1 cũng bằng

• Số nào chia cho 1 cũng bằng

2 a) Tính (theo mẫu).

Mẫu: $1 \times 3 = 1 + 1 + 1 = 3$. Vậy: $1 \times 3 = 3$.

$1 \times 4 = \dots\dots\dots \quad 1 \times 5 = \dots\dots\dots$

$1 \times 7 = \dots\dots\dots \quad 1 \times 8 = \dots\dots\dots$

b) Viết tiếp vào chỗ chấm cho thích hợp.

Nhận xét: Số 1 nhân với số nào cũng bằng

3 Số ?

$2 \times 8 = \square$ $1 \times 8 = \square$ $15 : 5 = \square$

$7 \times 6 = \square$

$6 \times 1 = \square$

$4 \times 5 = \square$ $18 : 3 = \square$

$16 : 4 = \square$

$3 \times 9 = \square$

$6 : 1 = \square$ $9 \times 1 = \square$ $7 : 1 = \square$

- 4 ✎ Mẹ của Lan mua về 3 chục bông hoa. Mẹ bảo Lan mang số bông hoa đó cắm đều vào 3 lọ. Hỏi Lan đã cắm mỗi lọ bao nhiêu bông hoa?

Bài giải

.....

.....

.....

.....

- 5 ✎ Số ?

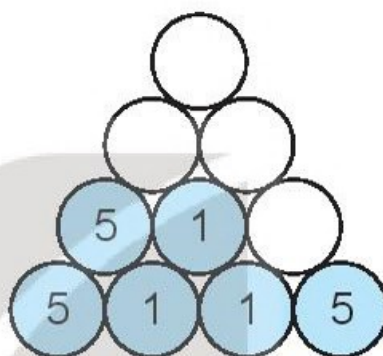
a) $2 \times \square = 10$

$\square \times 4 = 16$

$14 : \square = 7$

$15 : \square = 5$

b)



Tiết 3

- 1 ✎ a) Tính (theo mẫu).

Mẫu: $0 \times 3 = 0 + 0 + 0 = 0$. Vậy: $0 \times 3 = 0$.

$0 \times 4 = \dots\dots\dots$

$0 \times 6 = \dots\dots\dots$

$0 \times 7 = \dots\dots\dots$

Viết số thích hợp vào chỗ chấm.

Nhận xét:

- Số 0 nhân với số nào cũng bằng
- Ta còn có: Số nào nhân với 0 cũng bằng 0.

- b) Số ?

$0 \times 2 = \square$

$0 \times 5 = \square$

$0 \times 8 = \square$

$0 \times 9 = \square$

$0 : 2 = \square$

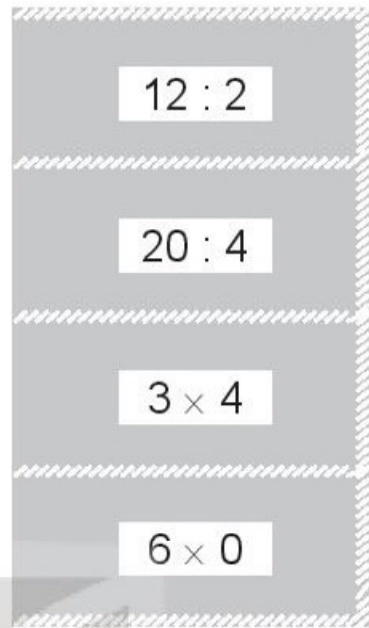
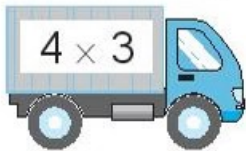
$0 : 5 = \square$

$0 : 8 = \square$

$0 : 9 = \square$

Nhận xét: Số 0 chia cho số nào khác 0 cũng bằng \square .

2 ✎ Nối hai phép tính có cùng kết quả.

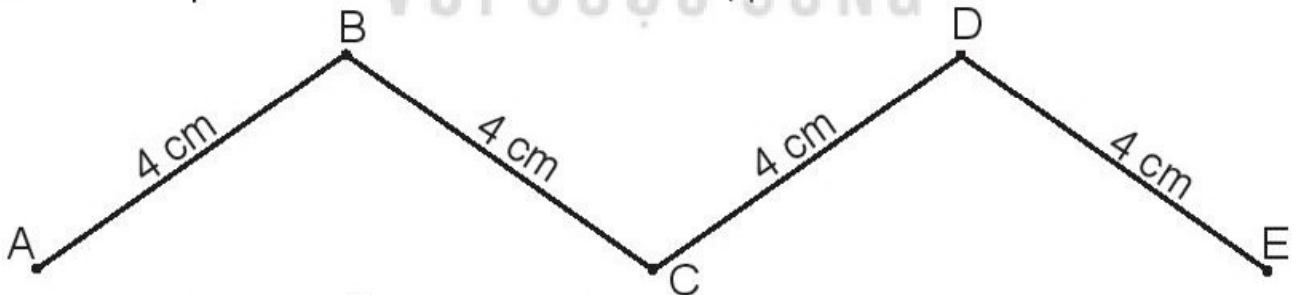


3 ✎ Tổ Hai có 9 bạn, mỗi bạn góp 4 quyển vở để giúp đỡ các bạn vùng bị lũ lụt. Hỏi tổ Hai đã góp được bao nhiêu quyển vở?

Bài giải

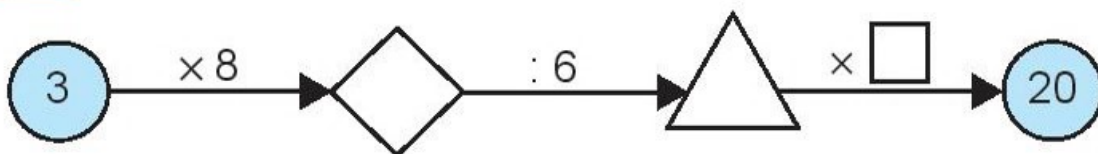
.....
.....
.....

4 ✎ Viết tiếp vào chỗ chấm cho thích hợp.



Độ dài đường gấp khúc ABCDE là: =

5 ✎ Số ?



Tiết 1

1 ✎ Số ?

a)

×	6	6	6	6
	5	8	9	10

b)

:	24	18	36	42
	6	6	6	6

2 ✎ Nói (theo mẫu).



$42 : 6$



6×7



6×9



$18 : 6$



6×5



$36 : 6$

54

42

3

7

6

30

3 ✎ Mỗi hộp có 6 chiếc bút chì màu. Hỏi 5 hộp như vậy có bao nhiêu chiếc bút chì màu?

Bài giải

.....

.....

.....

4 ✎ Xếp 48 cái bánh vào các hộp, mỗi hộp 6 cái. Hỏi xếp được bao nhiêu hộp bánh như vậy?

Bài giải

.....

.....

.....

Tiết 2

1 **Số ?**

a)

6	12		24						60
---	----	--	----	--	--	--	--	--	----

b)

60	54	48							6
----	----	----	--	--	--	--	--	--	---

2 **Số ?**

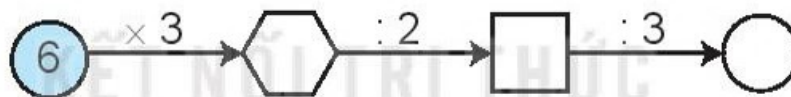
a)

×	6	6	6	6
	3	5	7	9

b)

:	24	36	48	60
	6	6	6	6

3 **Số ?**



4 Một phòng họp có 36 cái ghế ngồi. Người ta đã xếp ghế thành 6 hàng đều nhau.

- a) Hỏi mỗi hàng có bao nhiêu cái ghế?
- b) Trong một buổi họp, số người tham dự ngồi vừa đủ 5 hàng ghế. Hỏi buổi họp đó có bao nhiêu người tham dự?

Bài giải

.....

.....

.....

.....

.....

Tiết 1

1 Số ?

$$7 \times 6 \rightarrow \square$$

$$42 : 7 \rightarrow \square$$

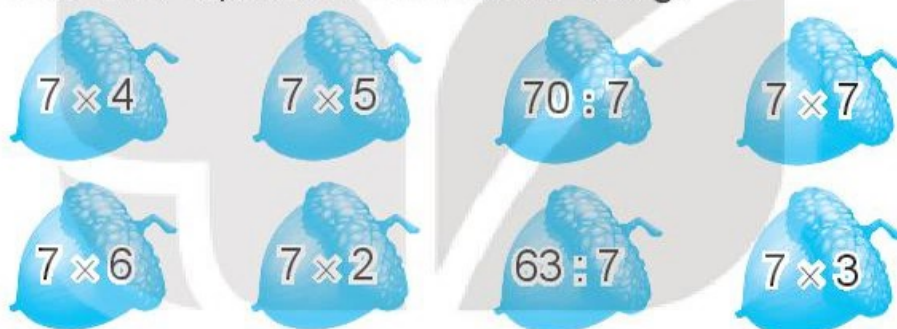
$$42 : 6 \rightarrow \square$$

$$7 \times 4 \rightarrow \square$$

$$28 : 4 \rightarrow \square$$

$$28 : 7 \rightarrow \square$$

2 Khoanh vào chữ đặt trước câu trả lời đúng.



Có mấy hạt dẻ ghi phép tính có kết quả bé hơn 35?

- A. 4 B. 5 C. 6 D. 7

3 Mỗi lọ cắm 7 bông hoa. Hỏi 6 lọ như vậy cắm bao nhiêu bông hoa?

Bài giải

.....

.....

.....

4 Nói hai phép tính có kết quả bằng nhau (theo mẫu).

7×5	$42 : 7$	$14 : 2$	$21 : 7$	$28 : 7$
$30 : 5$	5×7	$24 : 6$	$49 : 7$	$18 : 6$

Tiết 2

1 **Số ?**

a)

7	14		28						70
---	----	--	----	--	--	--	--	--	----

b)

70	63		49						7
----	----	--	----	--	--	--	--	--	---

2 **Số ?**

a)

Thừa số	7	7	7	7
Thừa số	3	6	7	8
Tích				

b)

Số bị chia	28	35	63	70
Số chia	7	7	7	7
Thương				

3 Một thanh tre dài 49 cm. Rô-bốt cắt thanh tre đó thành 7 đoạn dài bằng nhau.

a) Hỏi mỗi đoạn tre dài bao nhiêu xăng-ti-mét?

b) Nếu lấy 4 đoạn tre đó xếp thành một hình vuông thì tổng độ dài các cạnh của hình vuông đó là bao nhiêu xăng-ti-mét?

Bài giải

KẾT NỐI TRI THỨC
VỚI CUỘC SỐNG

.....

.....

.....

.....

.....

4 **>; <; = ?**

a) $7 \times 5 \square 7 \times 9$

b) $7 \times 6 \square 6 \times 7$

c) $7 \times 4 \square 6 \times 4$

Tiết 1

1 Số ?

a)

×	8	8	8	8
	3	5	7	9

b)

:	32	48	64	80
	8	8	8	8

2 Số ?

a) $8 \times 5 = \square$

b) $8 \times 7 = \square$

c) $8 \times 6 = \square$

$40 : 8 = \square$

$56 : 8 = \square$

$48 : 8 = \square$

$40 : 5 = \square$

$56 : 7 = \square$

$48 : 6 = \square$

3 Khoanh vào chữ đặt trước câu trả lời đúng.

Phép tính nào dưới đây có kết quả bé nhất?

A. $72 : 8$

B. 8×1

C. $80 : 8$

D. 8×2

4 Có 64 viên bi chia đều vào 8 hộp. Hỏi:

a) Mỗi hộp có bao nhiêu viên bi?

b) 3 hộp bi như vậy có bao nhiêu viên bi?

Bài giải

.....

.....

.....

.....

.....

Tiết 2

1  Số ?

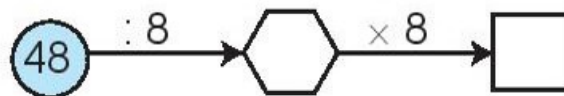
a)


8	16			40					80
---	----	--	--	----	--	--	--	--	----

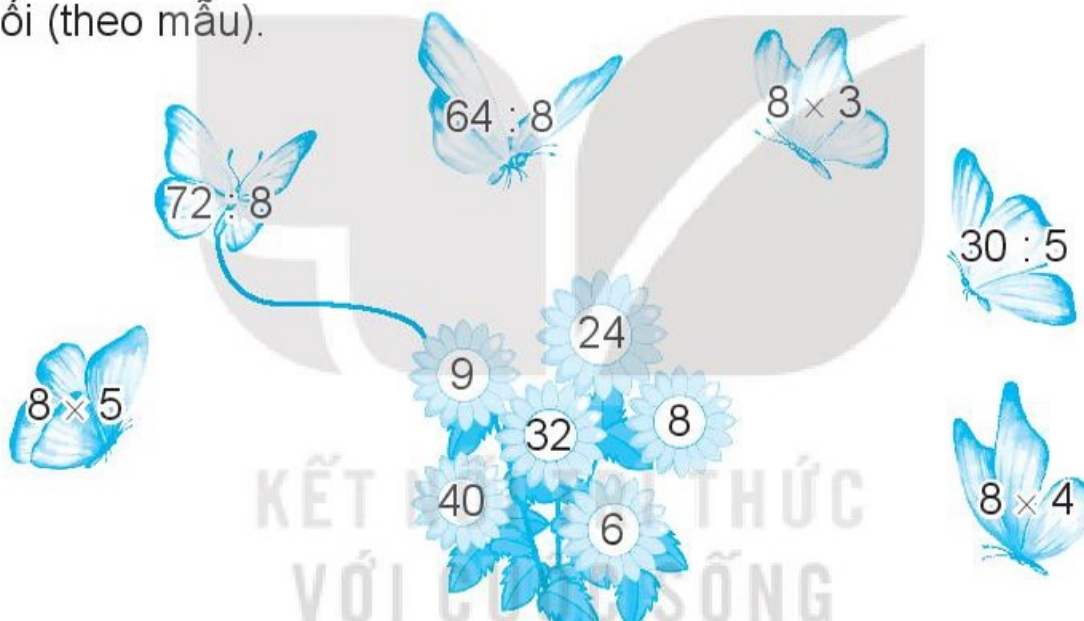
b)

80		64	56						8
----	--	----	----	--	--	--	--	--	---

2  Số ?



3  Nói (theo mẫu).



- 4  a) Mỗi hộp có 8 cái bánh. Hỏi 5 hộp như vậy có bao nhiêu cái bánh?
b) Có 48 cái bánh chia đều vào 8 khay để vào lò nướng. Hỏi mỗi khay có bao nhiêu cái bánh?

Bài giải

.....

.....

.....

.....

.....

Tiết 1

1 ✎ Số ?

Thừa số	9	9	9	9	9	9	9	9
Thừa số	3	5	7	9	4	6	8	10
Tích								

2 ✎ Số ?

Số bị chia	36	54	90	72	81	45	63	27
Số chia	9	9	9	9	9	9	9	9
Thương								

3 ✎ Nối hai phép tính có cùng kết quả (theo mẫu).

9×2 $54 : 9$ $28 : 7$ 9×5

$42 : 7$ 6×3 5×9 $36 : 9$

4 ✎ Cô Lan có 36 bông hoa hồng. Cô Lan cắm hoa vào các lọ, mỗi lọ có 9 bông hoa. Hỏi cô Lan cắm được bao nhiêu lọ hoa như vậy?

Bài giải

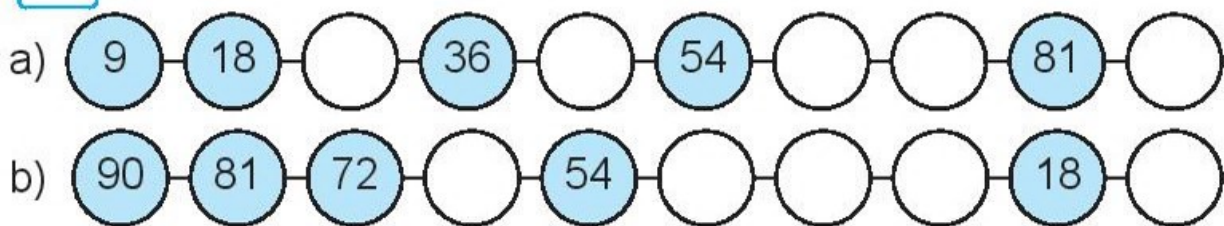
.....

.....

.....

Tiết 2

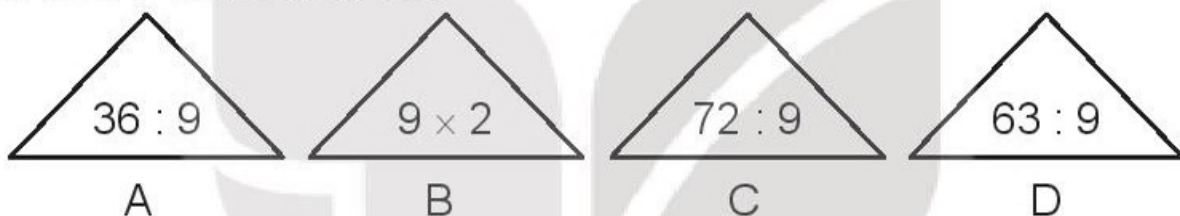
1 SỐ ?



2 SỐ ?



3 Khoanh vào chữ đặt dưới hình tam giác ghi phép tính có kết quả lớn hơn 7 và bé hơn 10.



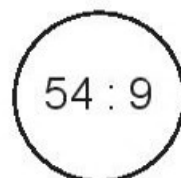
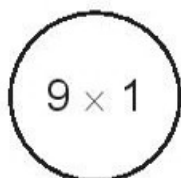
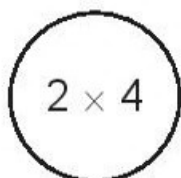
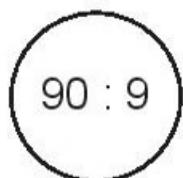
4 Có 27 bạn tập nhảy dây. Cô giáo đã chia đều các bạn thành 9 nhóm. Hỏi:

- a) Mỗi nhóm tập nhảy dây có mấy bạn?
b) 2 nhóm tập nhảy dây như vậy có bao nhiêu bạn?

Bài giải

.....
.....
.....
.....
.....

5 Tô màu đỏ vào hình tròn ghi phép tính có kết quả bé nhất, tô màu xanh vào hình tròn ghi phép tính có kết quả lớn nhất.



Tiết 3

1 ✎ Dựa vào bảng nhân, chia hãy tính:

a) $9 \times 5 = \dots\dots$ b) $6 \times 4 = \dots\dots$ c) $72 : 9 = \dots\dots$ d) $42 : 6 = \dots\dots$

2 ✎ Số ?

a)

×	9	7	8
	3	4	10

b)

:	45	36	70
	5	6	7

3 ✎ a) Mỗi đội múa rồng có 9 người. Hỏi 3 đội múa rồng như vậy có bao nhiêu người?

b) Nếu tất cả số người múa rồng ở câu a chuyển sang múa lân, mỗi đội 3 người thì được bao nhiêu đội múa lân?

Bài giải

.....

.....

.....

.....

.....

4 ✎ Tìm hai số bé hơn 5 và có thương là 2.

Bài giải

.....

.....

.....

.....

.....

BÀI 13

TÌM THÀNH PHẦN TRONG PHÉP NHÂN, PHÉP CHIA

Tiết 1

1 ✎ Số ?

a) $\square \times 4 = 12$

b) $8 \times \square = 40$

c) $\square \times 9 = 45$

2 ✎ Số ?

Thừa số	9		8		4
Thừa số	6	5		7	
Tích	54	30	72	28	40

3 ✎ Nối (theo mẫu).

$? \times 6 = 24$

Thừa số cần tìm là 9.

$? \times 5 = 45$

Thừa số cần tìm là 4.

$7 \times ? = 49$

Thừa số cần tìm là 8.

$9 \times ? = 72$

Thừa số cần tìm là 7.

4 ✎ Có 6 can nước mắm như nhau chứa được tất cả 54 l nước mắm. Hỏi mỗi can đó chứa được bao nhiêu lít nước mắm?

Bài giải

Tiết 2

1 Số ?

a) $\square : 4 = 9$

$\square : 7 = 5$

$\square : 8 = 6$

b) $18 : \square = 2$

$42 : \square = 7$

$40 : \square = 8$

2 Số ?

Số bị chia	72	45	36		
Số chia	8			7	6
Thương	9	5	9	4	10

3 Có 30 khách du lịch đi tham quan trên các thuyền. Biết rằng mỗi thuyền có 6 khách du lịch. Hỏi có mấy thuyền chở khách du lịch như vậy?

Bài giải

4 Viết các phép tính thích hợp vào chỗ chấm.

Từ ba trong các số 35, 3, 7, 5, 24, lập được các phép nhân hoặc phép chia thích hợp là:

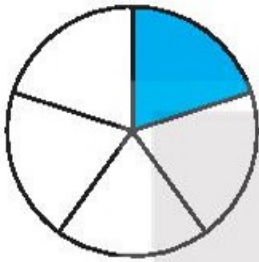
BÀI 14

MỘT PHẦN MẤY

Tiết 1

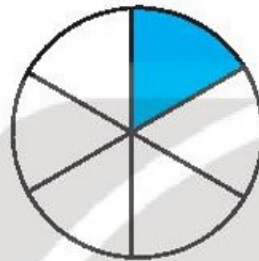
1 Đ, S ?

a)



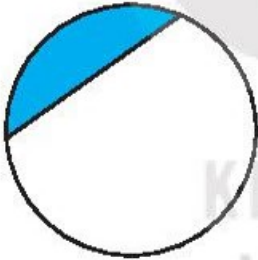
Đã tô màu $\frac{1}{5}$ hình tròn.

b)



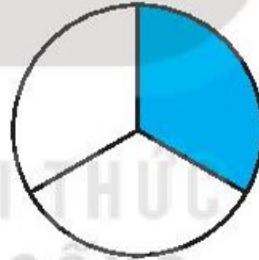
Đã tô màu $\frac{1}{6}$ hình tròn.

c)



Đã tô màu $\frac{1}{2}$ hình tròn.

d)



Đã tô màu $\frac{1}{3}$ hình tròn.

2 Nói (theo mẫu).

Một phần hai

Một phần năm

Một phần ba

$\frac{1}{5}$

$\frac{1}{2}$

$\frac{1}{6}$

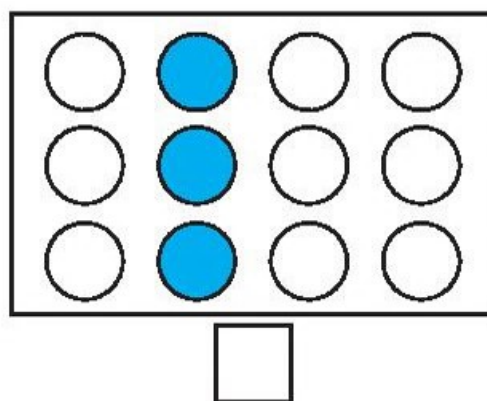
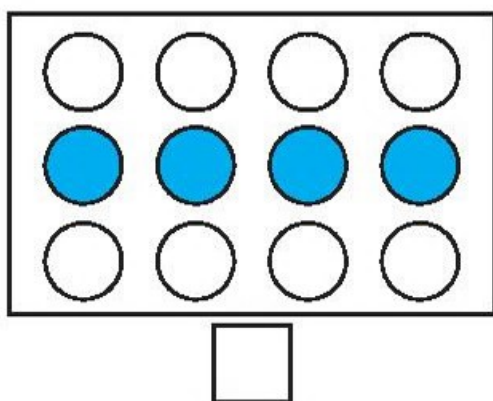
$\frac{1}{3}$

$\frac{1}{4}$



Một phần sáu

Một phần tư

3 ✎ Viết dấu “x” vào ô trống dưới hình đã tô màu $\frac{1}{3}$ số hình tròn của hình đó.



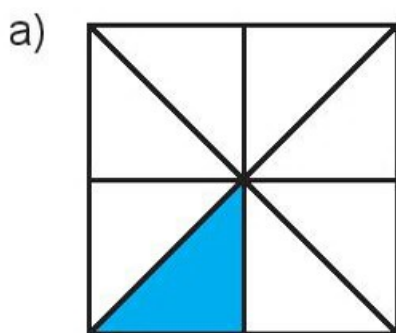
4 ✎ Tô màu $\frac{1}{5}$ mỗi hình sau.



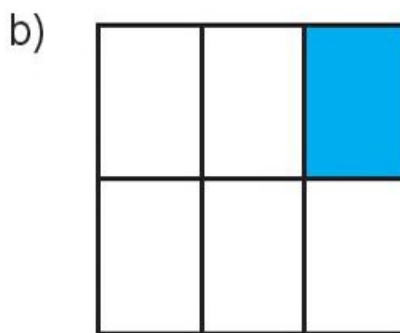
Tiết 2

KẾT NỐI TRI THỨC
VỚI CUỘC SỐNG

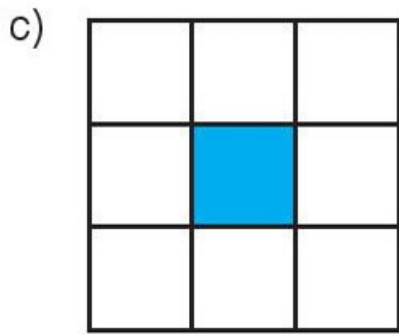
1 ✎ Đ, S ?



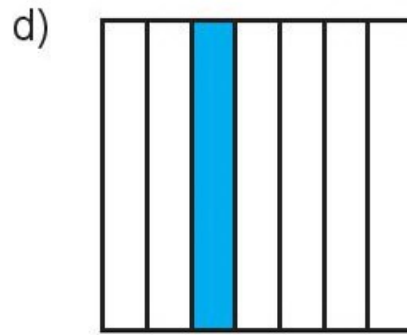
Đã tô màu $\frac{1}{8}$ hình vuông.



Đã tô màu $\frac{1}{5}$ hình vuông.



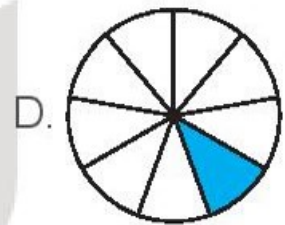
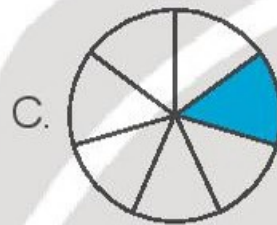
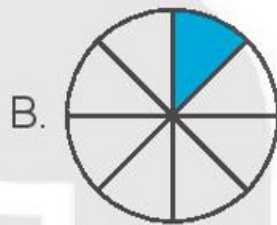
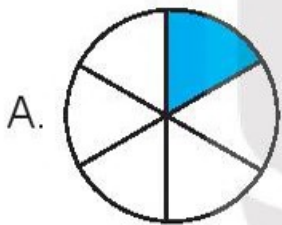
Đã tô màu $\frac{1}{9}$ hình vuông.



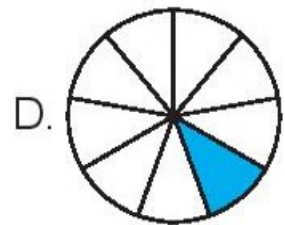
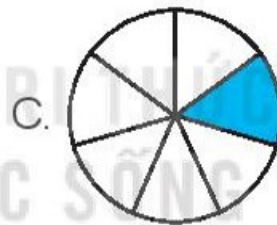
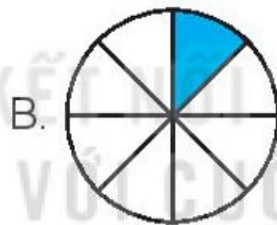
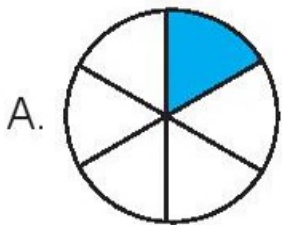
Đã tô màu $\frac{1}{7}$ hình vuông.

2 Khoanh vào chữ đặt trước câu trả lời đúng.

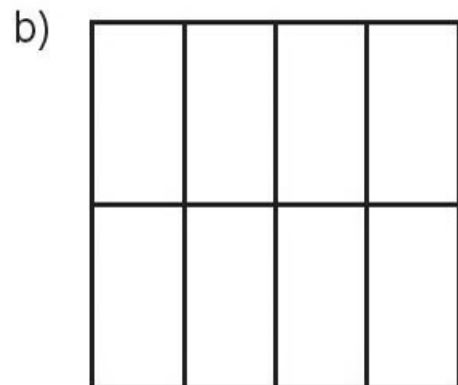
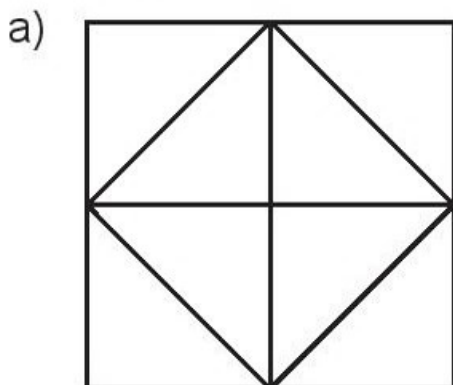
a) Đã tô màu $\frac{1}{7}$ hình nào?



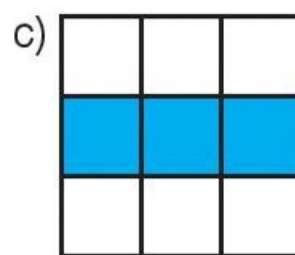
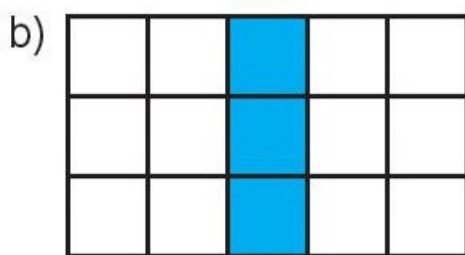
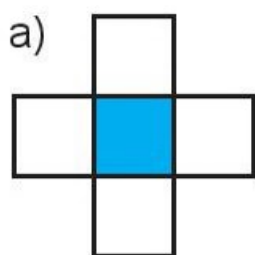
b) Đã tô màu $\frac{1}{9}$ hình nào?





3 Tô màu $\frac{1}{8}$ mỗi hình sau.



4 ✎ Viết dấu “x” vào ô trống dưới hình đã tô màu $\frac{1}{5}$ số ô vuông của hình đó.

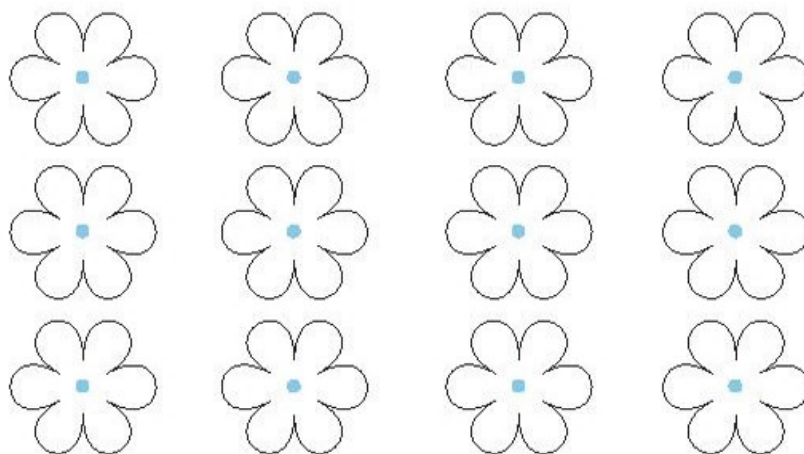


5 ✎ a) Tô màu $\frac{1}{2}$ số con cá rồi viết số thích hợp vào ô trống.



$\frac{1}{2}$ số con cá là con cá.

b) Tô màu $\frac{1}{4}$ số bông hoa rồi viết số thích hợp vào ô trống.



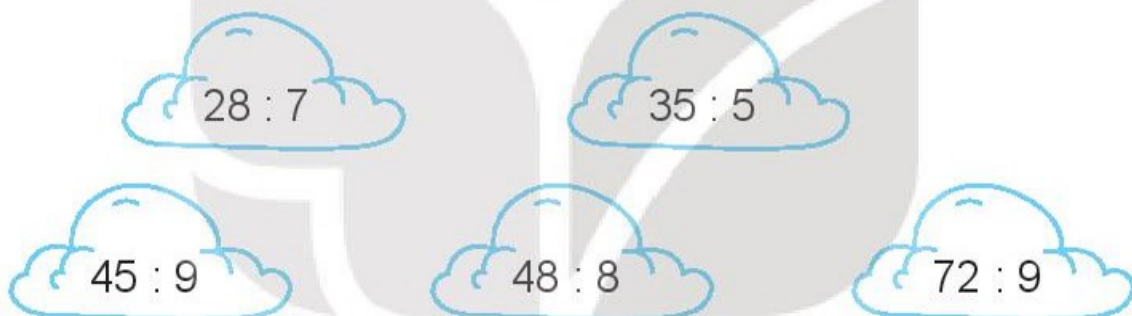
$\frac{1}{4}$ số bông hoa là bông hoa.

Tiết 1

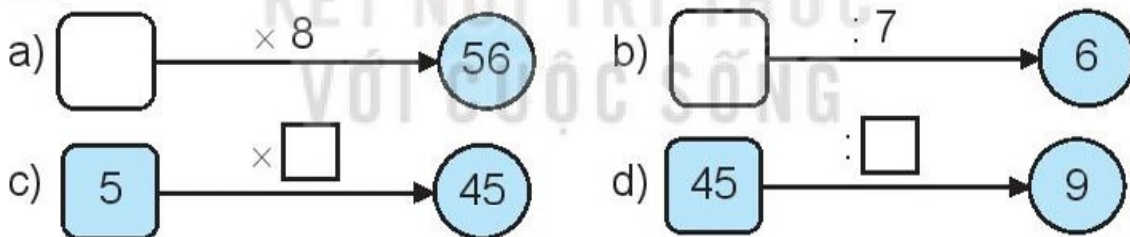
1 ✎ Tính nhẩm.

- a) $7 \times 4 = \dots$ $8 \times 6 = \dots$ $9 \times 5 = \dots$ $6 \times 9 = \dots$
 b) $5 \times 8 = \dots$ $4 \times 9 = \dots$ $8 \times 8 = \dots$ $3 \times 7 = \dots$

2 ✎ Tô màu vào những đám mây ghi phép tính có kết quả bé hơn 7.



3 ✎ Số ?

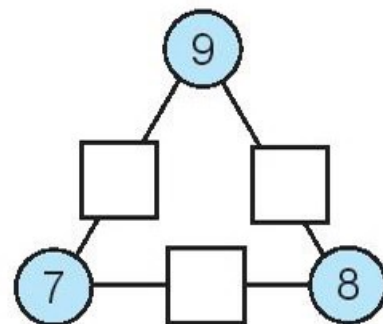
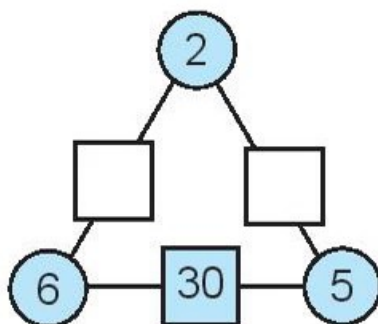
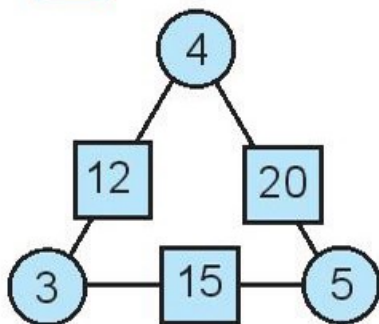


4 ✎ Mai xếp mỗi bàn 6 cái li và xếp 8 bàn như vậy. Hỏi Mai xếp tất cả bao nhiêu cái li?

Bài giải

.....

5 Số ?



Tiết 2

1 Tính nhẩm.

- | | | | |
|----------------------|----------------------|----------------------|----------------------|
| $5 \times 7 = \dots$ | $6 \times 8 = \dots$ | $9 \times 7 = \dots$ | $8 \times 4 = \dots$ |
| $7 \times 5 = \dots$ | $8 \times 6 = \dots$ | $7 \times 9 = \dots$ | $4 \times 8 = \dots$ |
| $35 : 5 = \dots$ | $48 : 6 = \dots$ | $63 : 9 = \dots$ | $32 : 8 = \dots$ |
| $35 : 7 = \dots$ | $48 : 8 = \dots$ | $63 : 7 = \dots$ | $32 : 4 = \dots$ |

2 Mẹ của Nam mua về 21 quả cam. Mẹ bảo Nam xếp cam vào các đĩa, mỗi đĩa 7 quả. Hỏi Nam xếp được bao nhiêu đĩa cam như vậy?

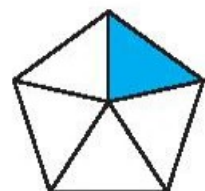
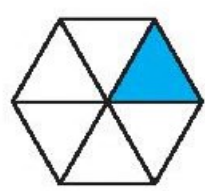
Bài giải

.....


.....

.....

3 a) Viết dấu "x" vào ô trống dưới hình đã tô màu $\frac{1}{6}$ hình đó.



b) Số ?



- $\frac{1}{8}$ số ngôi sao là ngôi sao;
- $\frac{1}{4}$ số ngôi sao là ngôi sao.

4 Khoanh vào chữ đặt trước câu trả lời đúng.

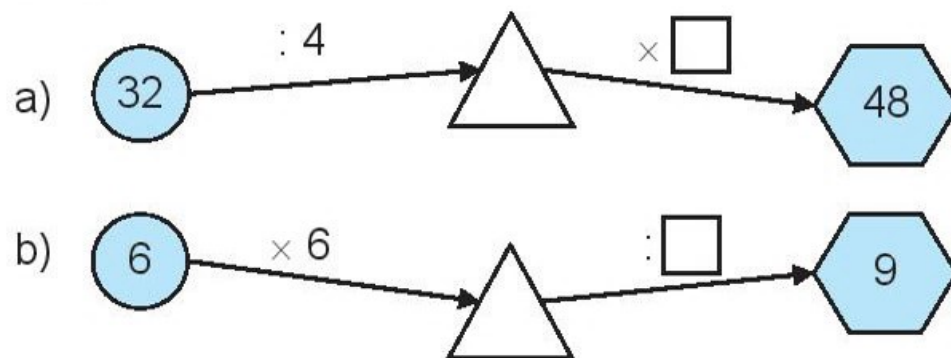
a) Phép tính nào dưới đây có kết quả lớn nhất?

- A. 6×5 B. 4×7 C. 3×9 D. 8×4

b) Phép tính nào dưới đây có kết quả bé nhất?

- A. $16 : 2$ B. $42 : 6$ C. $70 : 7$ D. $72 : 8$

5 Số ?

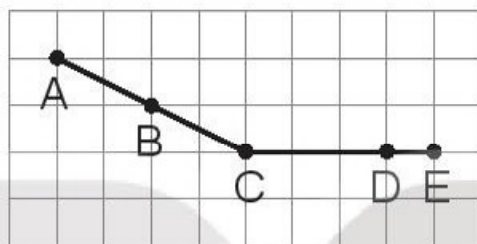


BÀI 16

ĐIỂM Ở GIỮA, TRUNG ĐIỂM CỦA ĐOẠN THẲNG

Tiết 1

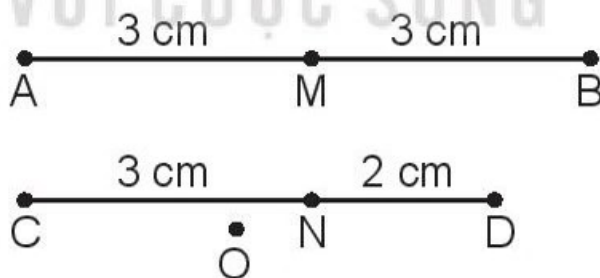
1 ✎ Đ, S ?



Trong hình trên:

- a) B là trung điểm của đoạn thẳng AC.
- b) D là trung điểm của đoạn thẳng CE.
- c) C là điểm ở giữa hai điểm B và D.
- d) D là điểm ở giữa hai điểm C và E.

2 ✎ Quan sát hình vẽ rồi viết tiếp vào chỗ chấm cho thích hợp.

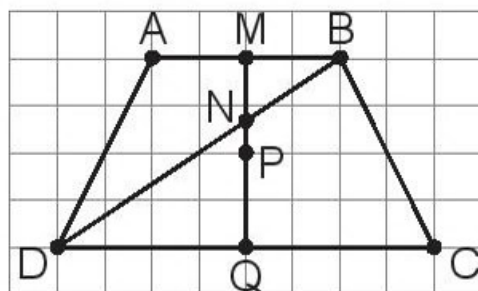


- a) Các nhóm ba điểm thẳng hàng là:
- b) M là điểm ở giữa hai điểm và
- b) M là trung điểm của đoạn thẳng
- c) là điểm ở giữa hai điểm C và D.

3 ✎ Viết tiếp vào chỗ chấm cho thích hợp.

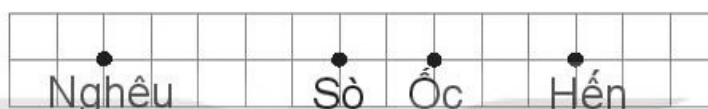
a) Trung điểm của đoạn thẳng CD là điểm

b) Trung điểm của đoạn thẳng MQ là điểm



4 ✎ Viết tiếp vào chỗ chấm cho thích hợp.

Cho biết vị trí nhà và khoảng cách giữa các nhà của các bạn Nghêu, Sò, Ốc, Hến như hình vẽ.




a) Nhà các bạn và ở giữa nhà Nghêu và nhà Hến.

b) Nhà bạn ở chính giữa quãng đường từ nhà Nghêu đến nhà Hến.

Tiết 2

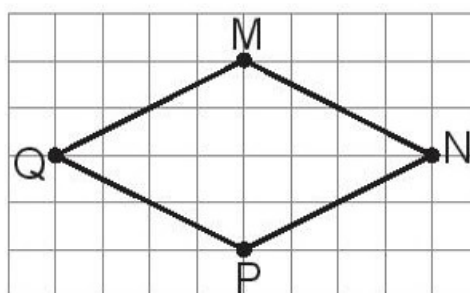
1 ✎ Xác định trung điểm của đoạn thẳng AB và đoạn thẳng AC.



2 ✎ Trong hình vẽ bên, hãy:

a) Vẽ đoạn thẳng MP và vẽ trung điểm A của đoạn thẳng MP.

b) Vẽ đoạn thẳng AN và vẽ trung điểm B của đoạn thẳng AN.



3 Số ?



Một cây cầu đá có 11 tầng đá. Chú chuột túi đang ở tầng đá ghi số 1 (như hình vẽ). Mỗi lần nhảy, chuột túi sẽ nhảy từ một tầng đá sang tầng đá ghi số liền sau nó. Vậy:

Chuột túi cần nhảy thêm lần để đến được tầng đá chính giữa của cây cầu.

4 Nam có một đoạn dây dài 20 cm. Bạn ấy muốn cắt một đoạn dây dài 5 cm từ đoạn dây ban đầu mà không cần dùng thước có vạch chia xăng-ti-mét. Em hãy giúp Nam tìm một cách làm.

Cách làm

.....

.....

.....

.....

.....

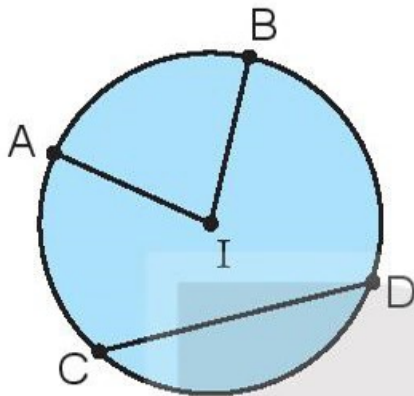
.....

KẾT NỐI TRI THỨC
VỚI CUỘC SỐNG

HÌNH TRÒN. TÂM, BÁN KÍNH, ĐƯỜNG KÍNH CỦA HÌNH TRÒN

1 ✎ Viết tiếp vào chỗ chấm cho thích hợp.

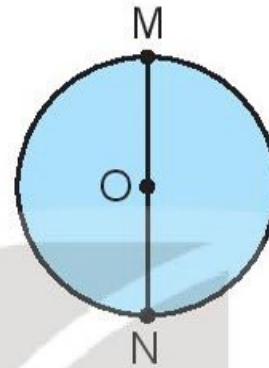
a)



Hình tròn tâm

Bán kính

b)



Hình tròn tâm

Bán kính

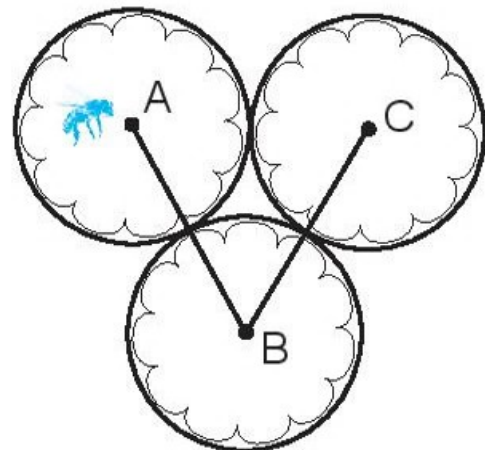
Đường kính

2 ✎ Vẽ đường tròn tâm I. Sau đó vẽ bán kính IM, đường kính AB của đường tròn đó.

KẾT NỐI TRI THỨC
VỚI CUỘC SỐNG

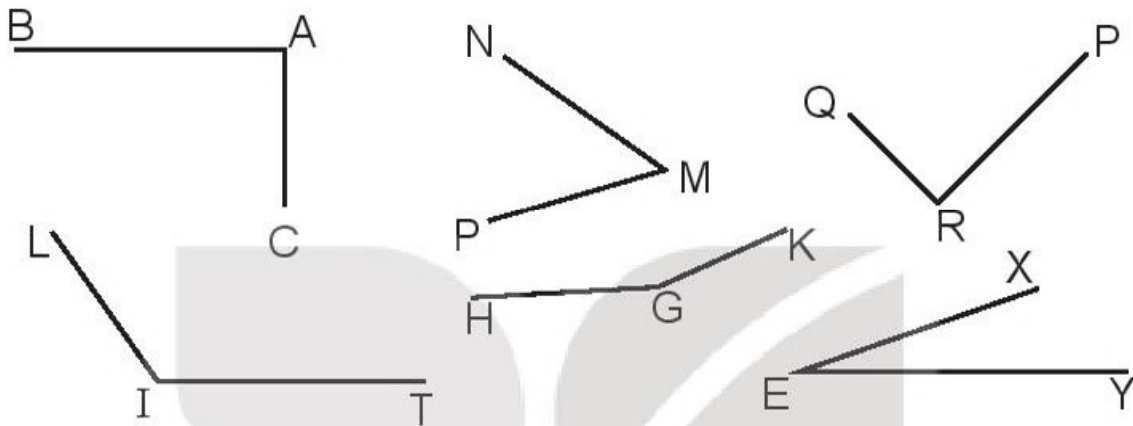
3 ✎ Viết số thích hợp vào chỗ chấm.

Trong hình vẽ bên có ba hình tròn, mỗi hình tròn đều có bán kính 9 cm. Chú ong bay đi lấy mật từ điểm A đến điểm C theo đường gấp khúc ABC. Vậy chú ong đã bay cm.



GÓC, GÓC VUÔNG, GÓC KHÔNG VUÔNG

1 Dùng ê ke để kiểm tra góc vuông rồi viết tiếp vào chỗ chấm cho thích hợp.

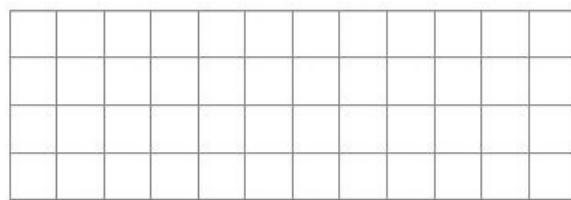


Trong hình vẽ có:

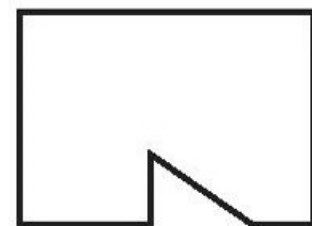
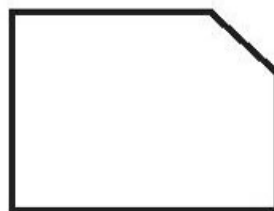
a) Các góc vuông là:
Góc đỉnh; cạnh,
Góc đỉnh; cạnh,

b) Các góc không vuông là:
Góc đỉnh; cạnh,
Góc đỉnh; cạnh,
Góc đỉnh; cạnh,
Góc đỉnh; cạnh,

2 Em hãy vẽ hai góc vuông trên lưới ô vuông.

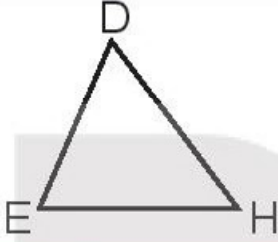
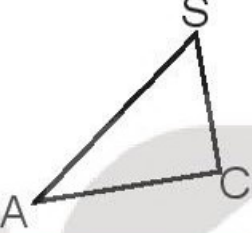
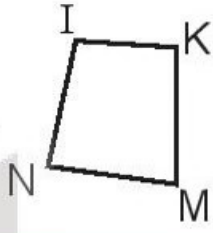


3 Tô màu vào hình có nhiều góc vuông nhất.



Tiết 1

1 ✎ Viết tên các đỉnh và các cạnh của mỗi hình (theo mẫu).

			
Các đỉnh	D, E, H		
Các cạnh	DE, EH, HD		

2 ✎ Viết tiếp vào chỗ chấm cho thích hợp.

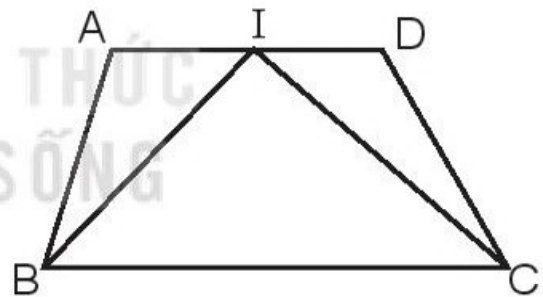
Trong hình vẽ bên có:

a) Các hình tam giác là:

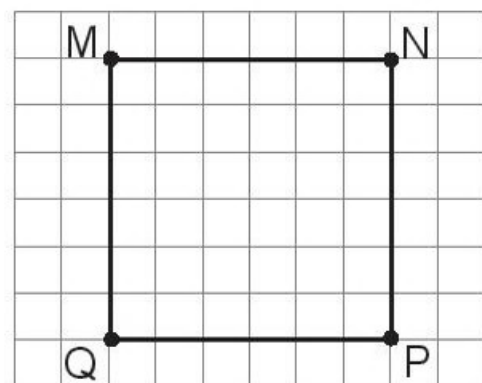
.....


b) Các hình tứ giác là:

.....

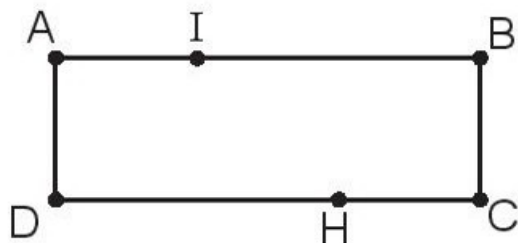


3 ✎ Qua bốn đỉnh của hình vuông MNPQ, hãy vẽ các đoạn thẳng để chia hình vuông đó thành 4 hình tam giác.

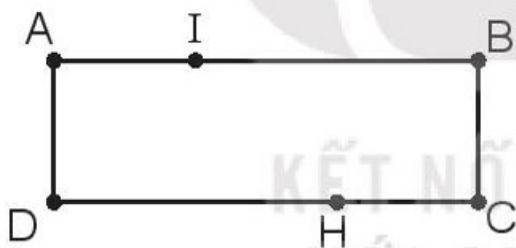
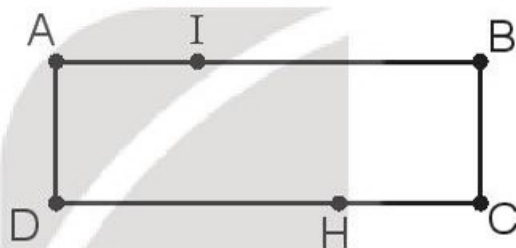
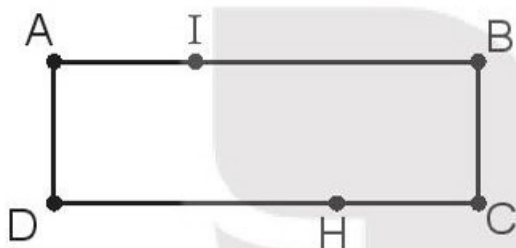


4  Mảnh vườn nhà cô Lan có dạng hình chữ nhật ABCD. Em hãy nối các điểm đã đánh dấu (như hình vẽ) để giúp cô Lan chia mảnh vườn đó theo mỗi yêu cầu dưới đây.

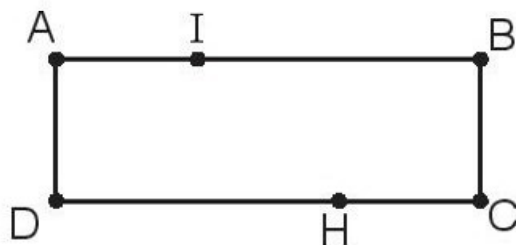
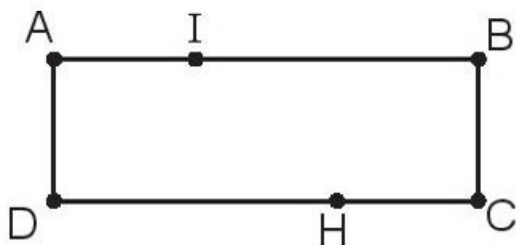
a) Chia thành 2 hình tứ giác.



b) Chia thành 1 hình tam giác và 1 hình tứ giác (tìm 4 cách làm).

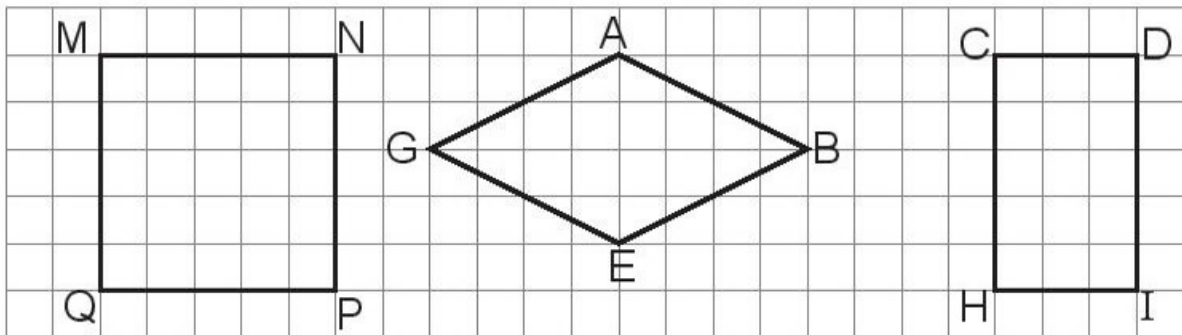


c) Chia thành 3 hình tam giác (tìm 2 cách làm).

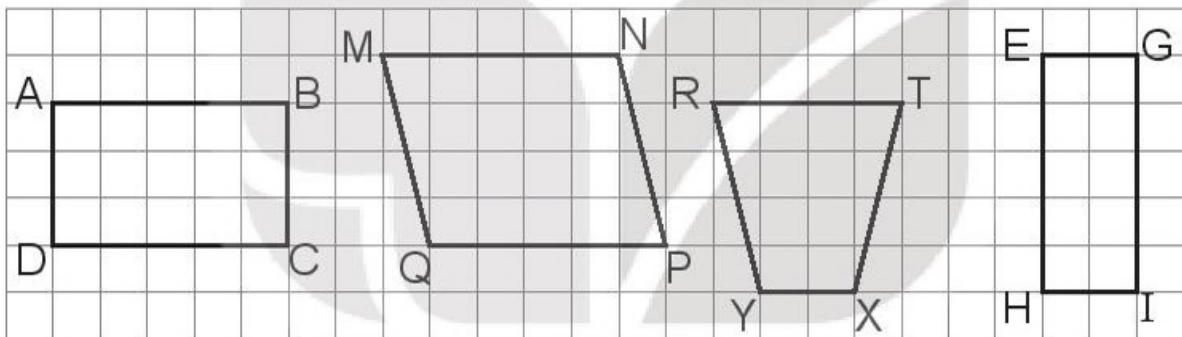


Tiết 2

1 a) Tô màu vàng vào hình vuông, màu xanh vào hình chữ nhật.



b) Khoanh vào chữ đặt trước câu trả lời đúng.




Trong hình vẽ có mấy hình chữ nhật?

- A. 1 hình B. 2 hình C. 3 hình D. 4 hình

2 Đ, S ?

Cho hình vuông và hình chữ nhật như sau:



Dùng thước có vạch chia xăng-ti-mét để đo độ dài các đoạn thẳng trong hình đã cho, ta có:

a) Hình vuông có cạnh 5 cm.

b) Hình chữ nhật có chiều rộng 4 cm.

c) Hình chữ nhật có chiều dài 2 cm.

3 ✎ Hãy đo độ dài các đồ vật dưới đây bằng gang tay hoặc sải tay của em rồi viết số thích hợp vào chỗ chấm.

a) Bảng lớp em có chiều dài khoảng sải tay.

b) Bảng lớp em có chiều dài khoảng gang tay.

c) Bàn học của em có chiều dài khoảng gang tay.

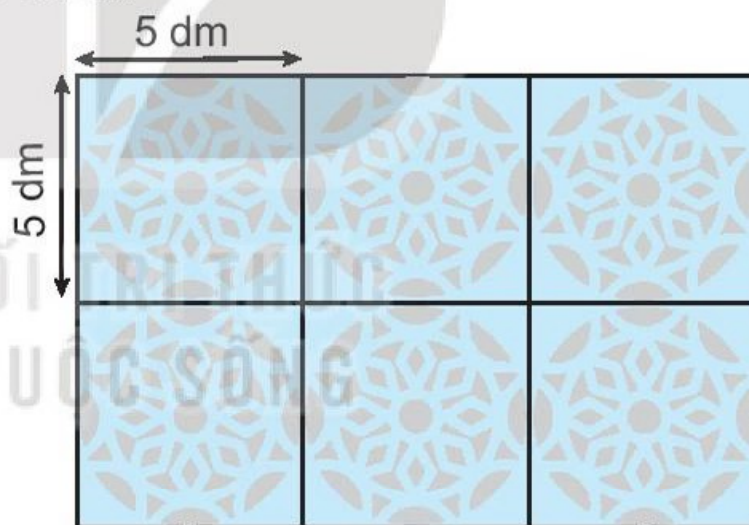
d) Bàn học của em có chiều rộng khoảng gang tay.

4 ✎ Viết số thích hợp vào chỗ chấm.

Mỗi viên gạch hoa trang trí có cạnh 5 dm. Một hình chữ nhật được ghép bởi 6 viên gạch hoa như hình vẽ.

a) Chiều dài của hình chữ nhật đó là dm.

b) Chiều rộng của hình chữ nhật đó là dm.



Tiết 3

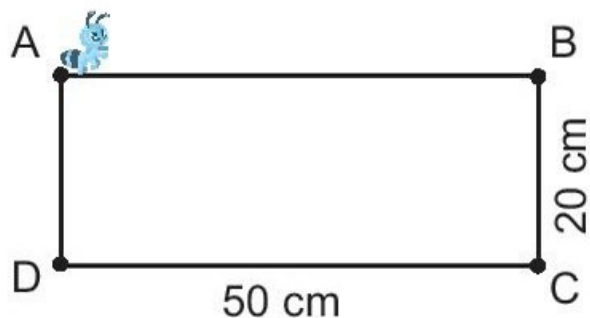
1 ✎ Viết số thích hợp vào chỗ chấm.

Cho ABCD là hình chữ nhật có $BC = 20$ cm, $CD = 50$ cm. Một con kiến đang ở điểm A (như hình vẽ).

a) Nếu con kiến muốn bò đến điểm B theo cạnh AB thì phải bò một đoạn đường dài cm.

b) Nếu con kiến muốn bò đến điểm D theo cạnh AD thì phải bò một đoạn đường dài cm.

c) Nếu con kiến muốn bò đến điểm C theo đường gấp khúc ABC thì phải bò một đoạn đường dài cm.



2 ✎ Viết số thích hợp vào chỗ chấm.

Rùa và Ốc sên thi chạy. Hai bạn cùng xuất phát từ điểm M chạy đến đích ở điểm N nhưng theo hai đường khác nhau. Ốc sên chạy đến đích theo cạnh MN, còn Rùa chạy đến đích theo đường gấp khúc MQPN. Biết rằng MNPQ là hình chữ nhật có $NP = 50$ cm.



Đoạn đường Rùa chạy dài hơn đoạn đường Ốc sên chạy là cm.

3 ✎ Khoanh vào chữ đặt trước câu trả lời đúng.

a) Với số lượng các que tính giống nhau nào dưới đây thì xếp được một hình vuông (không thừa que tính nào)?

A. 6 que tính

B. 7 que tính

C. 8 que tính

b) Với số lượng các que tính giống nhau nào dưới đây thì **không thể** xếp được một hình chữ nhật (không thừa que tính nào)?

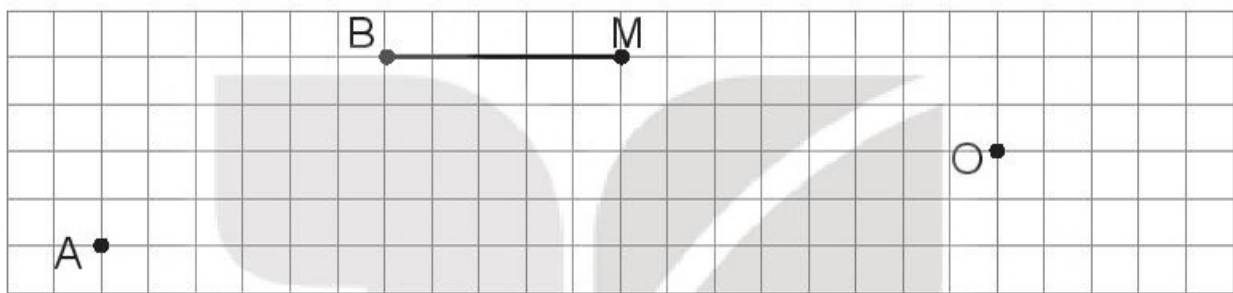
A. 6 que tính

B. 7 que tính

C. 10 que tính


Tiết 1

- 1 ✎ Vẽ một góc vuông có đỉnh A cho trước, một góc vuông có đỉnh B và một cạnh BM cho trước, một đường tròn tâm O cho trước.



- 2 ✎ Viết tiếp vào chỗ chấm cho thích hợp.

a) Dùng ê ke để kiểm tra góc vuông, em tìm được trong hình bên có góc vuông.




b) Dùng ê ke để kiểm tra góc vuông, hãy tìm một số đồ vật xung quanh em có góc vuông rồi viết lại tên của các đồ vật đó.

.....


.....

- 3 ✎ Vẽ một hình chữ nhật và một hình vuông rồi tô màu.

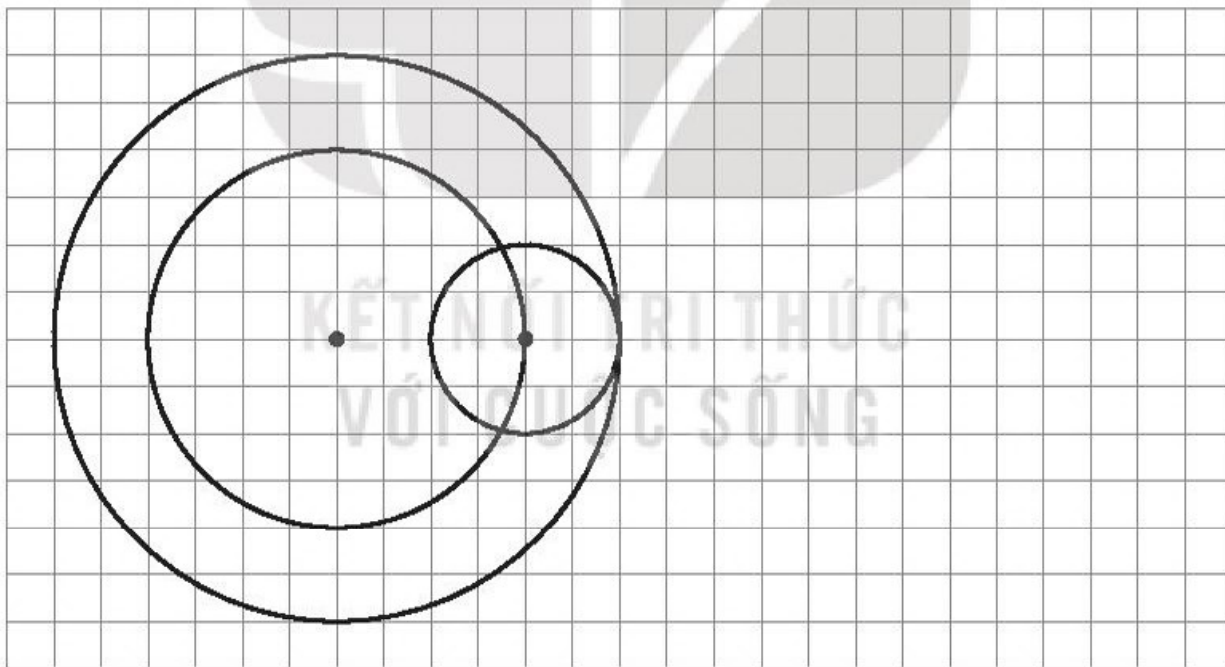


Tiết 2

1 ✎ Vẽ hình (theo mẫu).

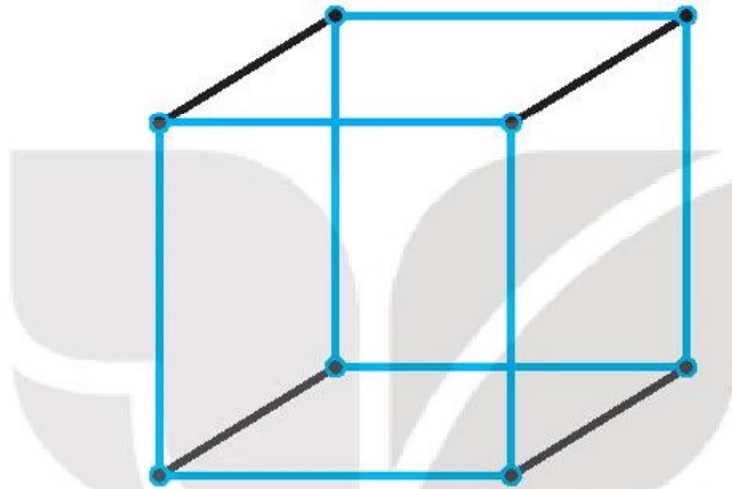


2 ✎ Vẽ theo mẫu rồi tô màu trang trí.



1 Số ?

Chiếc khung sắt cửa rạp xiếc có dạng khối lập phương với các cạnh được sơn màu xanh và đen (như hình vẽ).



- a) Khung sắt đó có tất cả cạnh màu đen, cạnh màu xanh.
b) Nghệ sĩ xiếc ảo thuật cần lắp các tấm gỗ hình vuông vừa khít các mặt của chiếc khung đó. Nghệ sĩ cần dùng tất cả tấm gỗ như vậy.

2 Số ?

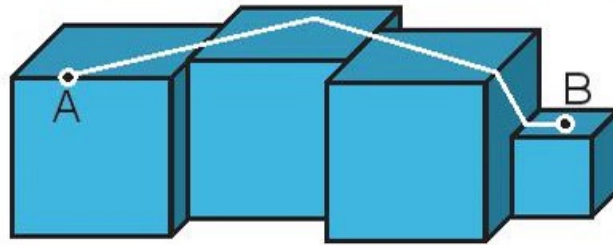
Một cục tẩy dạng khối hộp chữ nhật gồm hai nửa màu xám và màu xanh (như hình vẽ).



Khối hộp chữ nhật đó có đỉnh ở nửa màu xanh và đỉnh ở nửa màu xám.

3 SỐ ?

Trong hình là các khối gỗ dạng khối lập phương đặt sát nhau. Một con kiến bò từ A đến B theo đường kẻ màu trắng (như hình vẽ).



Đường đi của con kiến đã chạm vào tất cả cạnh của các khối gỗ.

4 Viết số thích hợp vào chỗ chấm.

Chú Tư làm những chiếc đèn lồng có khung dạng khối lập phương (như hình vẽ).

Ở mỗi đỉnh của chiếc khung, chú Tư dùng một sợi dây lạt để buộc. Để làm 5 chiếc khung đèn như vậy thì chú Tư cần dùng sợi dây lạt.

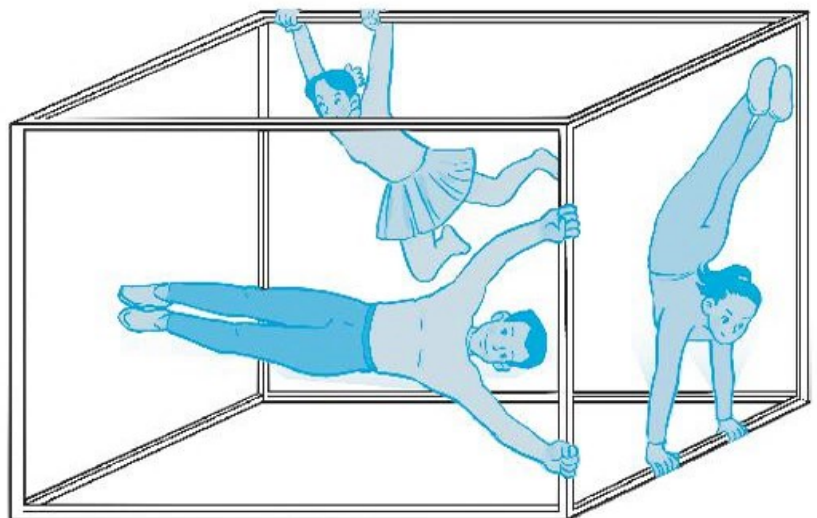


5 Ba nghệ sĩ xiếc đang biểu diễn trên chiếc khung thép dạng khối hộp chữ nhật (như hình vẽ).

a) Em hãy tô màu xanh các cạnh của chiếc khung mà các nghệ sĩ xiếc đang bám vào.

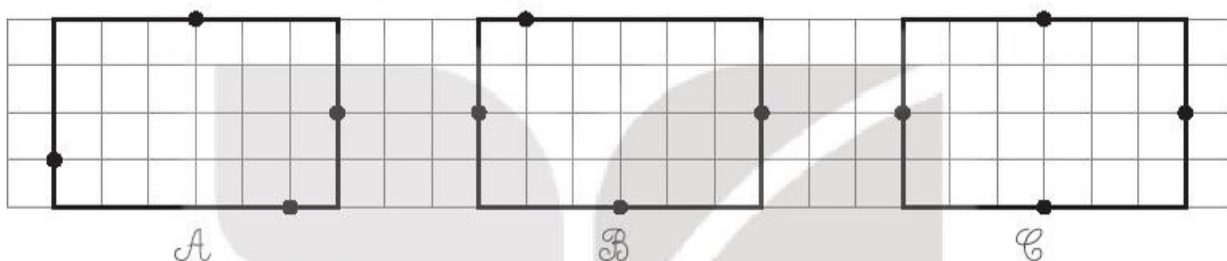
b) SỐ ?

Có cạnh của chiếc khung mà các nghệ sĩ không bám vào.



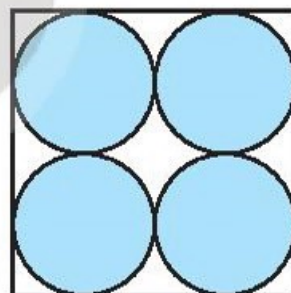
Tiết 1

- 1 ✎ Bạn Việt vẽ một hình chữ nhật trên giấy ô vuông rồi vẽ trung điểm mỗi cạnh của hình chữ nhật đó. Em hãy khoanh vào chữ đặt dưới hình mà bạn Việt đã vẽ.



- 2 ✎ Viết số thích hợp vào chỗ chấm.


Dán bốn tờ giấy hình tròn bán kính 3 cm vào một hình vuông (như hình vẽ). Vậy cạnh hình vuông đó dài cm.



- 3 ✎ Viết số thích hợp vào chỗ chấm.

Ngôi nhà của gọng vó là một cái ao nhỏ hình chữ nhật, trong đó có các lá súng dạng hình tròn (như hình vẽ). Biết rằng các lá to có đường kính 10 cm và các lá nhỏ có đường kính 5 cm.

- a) Chiều dài của cái ao là cm.
b) Chiều rộng của cái ao là cm.



Tiết 2

1 Quan sát hình vẽ dưới đây rồi viết tiếp vào chỗ chấm cho thích hợp.

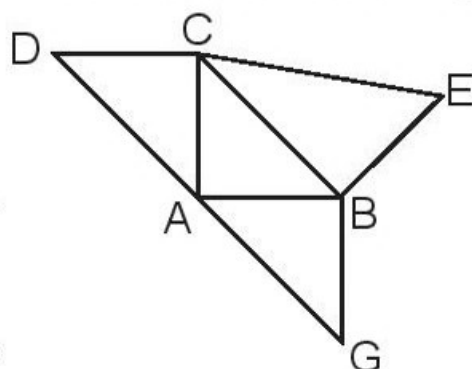
a) Trong hình vẽ có:

• Các hình tam giác là:

.....

• Các hình tứ giác là:

.....

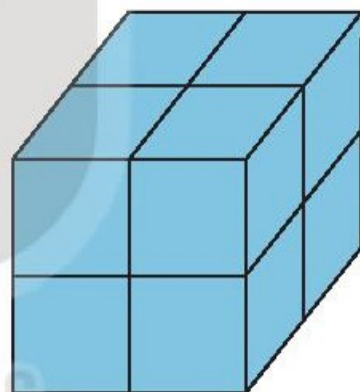


b) Dùng ê ke, em tìm được trong hình vẽ có tất cả góc vuông.

2 Số ?


Ghép 8 khối lập phương nhỏ thành một khối lập phương lớn (như hình vẽ). Người ta sơn màu xanh bốn mặt xung quanh của khối lập phương lớn.

Như vậy, có tất cả mặt của các khối lập phương nhỏ được sơn màu xanh.




3 Khoanh vào chữ đặt trước câu trả lời đúng.

a) Đồng hồ nào sau đây có kim giờ và kim phút tạo thành một góc vuông?



b) Đồng hồ nào sau đây có kim giờ và kim phút tạo thành một góc không vuông?



Tiết 1

1 ✎ Tính.

$$\begin{array}{r} 12 \\ \times 3 \\ \hline \end{array}$$

.....

$$\begin{array}{r} 22 \\ \times 4 \\ \hline \end{array}$$

.....

$$\begin{array}{r} 11 \\ \times 6 \\ \hline \end{array}$$

.....

$$\begin{array}{r} 30 \\ \times 3 \\ \hline \end{array}$$

.....

2 ✎ Tính nhẩm (theo mẫu).

Mẫu: $40 \times 2 = ?$ Nhẩm: 4 chục $\times 2 = 8$ chục. Vậy: $40 \times 2 = 80$.

$10 \times 9 = \dots\dots$ $40 \times 1 = \dots\dots$ $20 \times 2 = \dots\dots$ $30 \times 2 = \dots\dots$

3 ✎ Nói (theo mẫu).

$32 + 32 + 32$

11×4

28

$11 + 11 + 11 + 11$

32×3

44

$14 + 14$

14×2

96

4 ✎ Cô Mai cần 12 giờ để đan xong một chiếc mũ len. Hỏi cô Mai cần bao nhiêu giờ để đan được 4 chiếc mũ len như vậy?

Bài giải

.....

.....

.....

Tiết 2

1 Tính.

$$\begin{array}{r} 12 \\ \times 6 \\ \hline \end{array}$$

.....

$$\begin{array}{r} 28 \\ \times 3 \\ \hline \end{array}$$

.....

$$\begin{array}{r} 45 \\ \times 2 \\ \hline \end{array}$$

.....

$$\begin{array}{r} 24 \\ \times 4 \\ \hline \end{array}$$

.....

2 Kết quả của mỗi phép tính được gán với một chữ như sau:

(A) 11×2

(C) 13×3

(Đ) 25×3

(H) 42×2

(I) 18×4

(O) 27×3

(U) 13×5

Viết các chữ cái thích hợp vào ô trống (theo mẫu) rồi viết ô chữ giải được vào chỗ chấm.

75	72	22
Đ		

75	22	81

39	65

39	84	72

Ô chữ giải được là:

3 Viết mỗi chữ số 1, 2, 3 vào một ô trống trong hình bên để được phép tính đúng.

$$\begin{array}{r} \square \square \\ \times \quad \square \\ \hline \square \square \\ \square 6 \end{array}$$

4 Mỗi ngày Nam đọc được 24 trang truyện. Hỏi sau 3 ngày, Nam đọc được bao nhiêu trang truyện?

Bài giải

.....

.....

.....

Tiết 1

1 ✎ Số ?

Số đã cho	3	8	11	13	14
Thêm vào số đã cho 7 đơn vị	10				
Gấp 7 lần số đã cho	21				

2 ✎ Nói (theo mẫu).

(5)	thêm 3 đơn vị gấp 3 lần	(8)	(11)	thêm 8 đơn vị gấp 8 lần	(88)
(17)	thêm 2 đơn vị gấp 2 lần	(34)	(24)	thêm 4 đơn vị gấp 4 lần	(28)

3 ✎ Năm nay con 5 tuổi, tuổi bố gấp 7 lần tuổi con. Hỏi năm nay bố bao nhiêu tuổi?

Bài giải

.....

4 ✎ Có 8 bạn nữ và một số bạn nam tham gia bữa tiệc sinh nhật của Rô-bốt. Biết số bạn nam gấp 3 lần số bạn nữ. Hỏi có bao nhiêu bạn nam tham gia bữa tiệc sinh nhật của Rô-bốt?

Bài giải

.....

Tiết 2

1 Số ?

a) 3 thêm 7 đơn vị →

b) 7 gấp 9 lần →

c) 8 thêm 3 đơn vị →

d) 3 gấp 7 lần →

2 Đ, S ?

a) Gấp 6 lên 3 lần thì được 18.

b) Gấp 7 lên 5 lần thì được 30.

c) Thêm 3 đơn vị vào 6 thì được 18.

d) Thêm 5 đơn vị vào 7 thì được 12.

3 Mỗi cái bánh có thể mời 3 bạn ăn chung. Hỏi với 9 cái bánh thì có thể mời bao nhiêu bạn ăn chung?

Bài giải

KẾT NỐI TRI THỨC
VỚI CUỘC SỐNG

4 Tô màu các ô ghi phép tính có kết quả bằng 75.







25×3	$90 - 15$	20×4
17×5		15×5
$57 + 8$	7×5	16×3

Tiết 1

1 ✎ Tính.

$35 \overline{) 7}$	$45 \overline{) 8}$	$23 \overline{) 3}$	$45 \overline{) 5}$
.....
.....

2 ✎ Tô màu đỏ vào ô ghi phép chia hết, màu vàng vào ô ghi phép chia có dư.

					
$30 : 6$	$42 : 7$	$18 : 5$	$27 : 9$	$41 : 5$	$34 : 4$

3 ✎ Viết tiếp vào chỗ chấm cho thích hợp.

Cô giáo muốn chia 20 quả táo vào các đĩa. Các bạn Rô-bốt, Nam và Mai đưa ra các ý kiến về cách chia táo như sau:

- Rô-bốt: “Chia đều số quả táo vào 2 đĩa”;
- Nam: “Chia đều số quả táo vào 3 đĩa”;
- Mai: “Chia đều số quả táo vào 4 đĩa”.

Cách chia táo của cho ta phép chia hết.

4 ✎ Lớp 3A có 30 học sinh được chia đều thành 6 nhóm để tổ chức hoạt động ngoại khoá. Hỏi mỗi nhóm như vậy có bao nhiêu học sinh?

Tiết 2

1 ✎ Tính.

$$\begin{array}{r} 18 \quad | \quad 3 \\ \hline \dots \\ \dots \end{array}$$

$$\begin{array}{r} 23 \quad | \quad 4 \\ \hline \dots \\ \dots \end{array}$$

$$\begin{array}{r} 41 \quad | \quad 8 \\ \hline \dots \\ \dots \end{array}$$

$$\begin{array}{r} 48 \quad | \quad 9 \\ \hline \dots \\ \dots \end{array}$$

2 ✎ Đặt tính rồi tính.

$$34 : 3$$

$$29 : 5$$

$$70 : 9$$

$$47 : 8$$

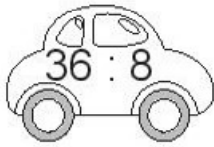
.....
.....
.....

.....
.....
.....

.....
.....
.....

.....
.....
.....

3 ✎ Tô màu vào những ô tô ghi phép chia có số dư là 4.



4 ✎ Bà nướng được 36 cái bánh. Bà cho bánh nướng được vào các hộp, mỗi hộp 9 cái bánh. Hỏi bà nướng được bao nhiêu hộp bánh như vậy?

Bài giải

.....
.....
.....

Tiết 1

1 ✎ Tính.

$46 \overline{) 2}$	$55 \overline{) 5}$	$96 \overline{) 3}$	$84 \overline{) 4}$
.....
.....
.....
.....

2 ✎ Đặt tính rồi tính.

$39 : 3$	$64 : 2$	$63 : 3$	$88 : 2$
.....
.....
.....

3 ✎ Tính nhẩm (theo mẫu).

Mẫu: $60 : 2 = ?$ Nhẩm: 6 chục : 2 = 3 chục. Vậy: $60 : 2 = 30$.

$80 : 2 = \dots\dots\dots$ $30 : 3 = \dots\dots\dots$ $90 : 3 = \dots\dots\dots$ $40 : 2 = \dots\dots\dots$

4 ✎ Số ?

a) $\square \times 4 = 48$ b) $5 \times \square = 55$ c) $\square \times 3 = 93$

Tiết 2

1 Tính.

$$\begin{array}{r} 57 \quad | \quad 3 \\ \hline \dots \\ \dots \\ \dots \end{array}$$

$$\begin{array}{r} 58 \quad | \quad 2 \\ \hline \dots \\ \dots \\ \dots \end{array}$$

$$\begin{array}{r} 86 \quad | \quad 7 \\ \hline \dots \\ \dots \\ \dots \end{array}$$

$$\begin{array}{r} 65 \quad | \quad 4 \\ \hline \dots \\ \dots \\ \dots \end{array}$$

2 Đ, S ?

a)

$$\begin{array}{r} 39 \quad | \quad 3 \\ \hline 3 \quad | \quad 13 \\ \hline 09 \\ \hline 9 \\ \hline 0 \end{array} \quad \square$$

b)

$$\begin{array}{r} 35 \quad | \quad 2 \\ \hline 2 \quad | \quad 12 \\ \hline 5 \\ \hline 4 \\ \hline 1 \end{array} \quad \square$$

c)

$$\begin{array}{r} 89 \quad | \quad 5 \\ \hline 5 \quad | \quad 17 \\ \hline 39 \\ \hline 35 \\ \hline 4 \end{array} \quad \square$$

d)

$$\begin{array}{r} 53 \quad | \quad 4 \\ \hline 4 \quad | \quad 13 \\ \hline 13 \\ \hline 12 \\ \hline 1 \end{array} \quad \square$$

3 Nam chia đều 60 quyển truyện vào 4 ngăn của giá sách. Hỏi mỗi ngăn chứa bao nhiêu quyển truyện?

Bài giải

.....

.....

.....

4 Bác An chia đều 40 cái kẹo cho 3 bạn nhỏ thì còn dư ra mấy cái kẹo?

Bài giải

.....

.....

.....

Tiết 3

1 ✎ Tính.

$$\begin{array}{r} 53 \quad | \quad 3 \\ \hline \dots \quad | \quad \dots \\ \dots \quad | \quad \dots \\ \dots \quad | \quad \dots \end{array}$$

$$\begin{array}{r} 67 \quad | \quad 4 \\ \hline \dots \quad | \quad \dots \\ \dots \quad | \quad \dots \\ \dots \quad | \quad \dots \end{array}$$

$$\begin{array}{r} 35 \quad | \quad 3 \\ \hline \dots \quad | \quad \dots \\ \dots \quad | \quad \dots \\ \dots \quad | \quad \dots \end{array}$$

$$\begin{array}{r} 99 \quad | \quad 8 \\ \hline \dots \quad | \quad \dots \\ \dots \quad | \quad \dots \\ \dots \quad | \quad \dots \end{array}$$

2 ✎ Bà Huyền chuẩn bị 87 quả cam để làm các suất quà cho các hộ gia đình nghèo, mỗi suất quà có 3 quả cam. Hỏi bà Huyền chuẩn bị được bao nhiêu suất quà?

Bài giải

.....

.....

.....

3 ✎ Có 32 khách du lịch đi thuyền tham quan. Mỗi chiếc thuyền chở được 5 hành khách. Hỏi cần ít nhất mấy chiếc thuyền để chở hết số khách du lịch đó?

Bài giải

.....

.....

.....

.....

4 ✎ Số ?

a) : 8 = 12

b) : 4 = 23

c) : 3 = 26

d) : 2 = 47

Tiết 1

1 Số ?

a) $36 \xrightarrow{\text{giảm 2 lần}} \square$

b) $48 \xrightarrow{\text{giảm 6 lần}} \square$

c) $45 \xrightarrow{\text{giảm 3 lần}} \square$

2 Viết “gấp” hoặc “giảm” vào chỗ chấm cho thích hợp.

a) $24 \xrightarrow{\dots\dots\dots 4 \text{ lần}} 6$

b) $72 \xrightarrow{\dots\dots\dots 6 \text{ lần}} 12$

c) $48 \xrightarrow{\dots\dots\dots 2 \text{ lần}} 96$

d) $56 \xrightarrow{\dots\dots\dots 4 \text{ lần}} 14$

3 Bác Bình thu hoạch được 78 kg cam. Tuy nhiên, do không bảo quản đúng cách nên có một lượng cam bị hỏng. Số ki-lô-gam cam còn lại so với lúc đầu giảm đi 3 lần. Hỏi bác Bình còn lại bao nhiêu ki-lô-gam cam?

Bài giải

.....

.....

.....

.....

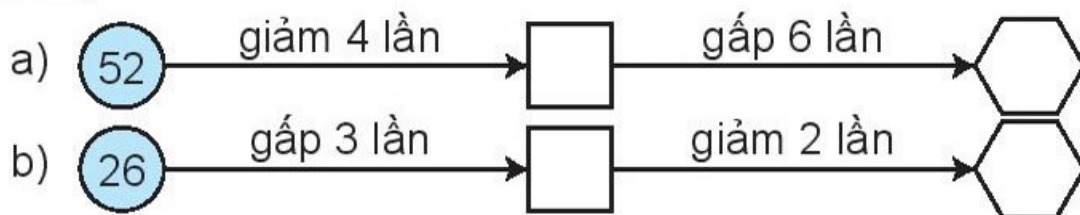
4 Viết “gấp 2 lần” hoặc “giảm 3 lần” vào chỗ chấm cho thích hợp.

a) $18 \xrightarrow{\dots\dots\dots} 6 \xrightarrow{\dots\dots\dots} 12$

b) $18 \xrightarrow{\dots\dots\dots} 36 \xrightarrow{\dots\dots\dots} 12$

Tiết 2

1 Số ?



2 Viết số thích hợp vào chỗ chấm.

Mũi của bạn người gỗ rất đặc biệt. Sau mỗi lần bạn ấy nói thật, chiều dài chiếc mũi so với trước khi nói thật giảm đi 2 lần. Sau mỗi lần bạn ấy nói dối, chiều dài chiếc mũi gấp 3 lần so với trước khi nói dối.



a) Nếu mũi của bạn người gỗ đang dài 52 cm thì sau khi nói thật 1 lần, mũi của bạn ấy dài cm.

b) Nếu mũi của bạn người gỗ đang dài 9 cm thì sau khi nói dối 2 lần liên tiếp, mũi của bạn ấy dài cm.

3 Mai có 42 tờ giấy màu. Sau giờ học thủ công, số tờ giấy màu còn lại của Mai so với lúc đầu giảm đi 6 lần. Hỏi Mai còn lại bao nhiêu tờ giấy màu?

Bài giải

.....

.....

.....

4 Số ?

a) $72 : \square = 8$ b) $48 : \square = 6$ c) $81 : \square = 9$ d) $45 : \square = 5$

Tiết 1

1 Trong chuồng có 3 con thỏ. Số con thỏ ở ngoài sân gấp 4 lần số con thỏ ở trong chuồng. Hỏi:

- a) Số thỏ ở trong chuồng và ở ngoài sân có tất cả bao nhiêu con?
- b) Số thỏ ở ngoài sân nhiều hơn số thỏ ở trong chuồng bao nhiêu con?

Bài giải

.....

.....

.....

.....

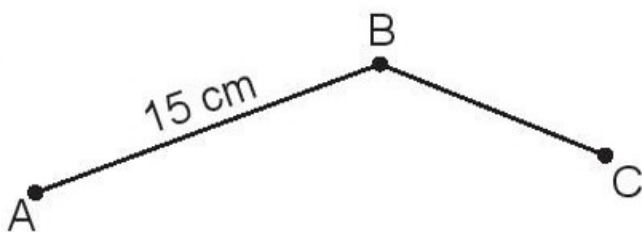
.....

.....

.....

.....

2 Đường gấp khúc ABC có đoạn thẳng AB dài 15 cm, đoạn thẳng BC ngắn hơn đoạn thẳng AB là 5 cm. Tính độ dài đường gấp khúc ABC.



Bài giải

.....

.....


.....

.....

.....

- 3** ✎ Lớp học có 15 bạn nam. Số bạn nữ nhiều hơn số bạn nam là 2 bạn. Hỏi lớp học đó có tất cả bao nhiêu bạn?

Bài giải



Tiết 2

KẾT NỐI TRI THỨC
VỚI CUỘC SỐNG

- 1** ✎ Con lợn đen cân nặng 65 kg. Con lợn trắng nặng hơn con lợn đen 8 kg. Hỏi cả hai con lợn cân nặng bao nhiêu ki-lô-gam?

Bài giải

.....

.....

.....

.....

.....

- 2 ✎ Lúc đầu trong thùng có 15 l nước mắm. Lúc sau, mẹ đổ thêm vào thùng 6 can, mỗi can 3 l nước mắm. Hỏi lúc sau trong thùng có tất cả bao nhiêu lít nước mắm?

Bài giải

.....

.....

.....

.....

.....

- 3 ✎ Nêu bài toán theo tóm tắt sau rồi giải bài toán đó.



Bài toán

.....

.....

.....

.....

.....

.....

.....

.....

.....

- 4 ✎ Số ?

Hiện nay, Mi 5 tuổi, chị Mai hơn Mi 3 tuổi.

Vậy sau 2 năm nữa, tuổi của chị Mai là tuổi.

Tiết 1

1 ✎ Tính nhẩm.

$50 \times 2 = \dots\dots$

$30 \times 2 = \dots\dots$

$10 \times 5 = \dots\dots$

$60 : 3 = \dots\dots$

$80 : 2 = \dots\dots$

$90 : 9 = \dots\dots$

2 ✎ Tính.

$$\begin{array}{r} 32 \quad | \quad 2 \\ \hline \dots\dots \\ \dots\dots \\ \dots\dots \\ \dots\dots \end{array}$$

$$\begin{array}{r} 54 \quad | \quad 3 \\ \hline \dots\dots \\ \dots\dots \\ \dots\dots \\ \dots\dots \end{array}$$

$$\begin{array}{r} 84 \quad | \quad 7 \\ \hline \dots\dots \\ \dots\dots \\ \dots\dots \\ \dots\dots \end{array}$$

$$\begin{array}{r} 44 \quad | \quad 4 \\ \hline \dots\dots \\ \dots\dots \\ \dots\dots \\ \dots\dots \end{array}$$

3 ✎ Số ?

a) 72 $\xrightarrow{\text{giảm 6 lần}}$

b) 14 $\xrightarrow{\text{gấp 7 lần}}$

c) 81 $\xrightarrow{\text{giảm 3 lần}}$

d) 29 $\xrightarrow{\text{gấp 3 lần}}$

4 ✎ Năm ngoái, cây sầu riêng nhà bác Ba cho 27 quả. Năm nay, bác áp dụng kĩ thuật tiên tiến nên cây sầu riêng đó cho số quả gấp 3 lần năm ngoái.

a) Hỏi năm nay cây sầu riêng nhà bác Ba cho bao nhiêu quả?

b) Sau khi bán đi, số quả sầu riêng còn lại giảm đi 3 lần. Hỏi bác Ba còn lại bao nhiêu quả sầu riêng?

Bài giải

.....

.....

.....

.....

.....

.....

Tiết 2

1 Đặt tính rồi tính.

$43 : 2$

$73 : 3$

$64 : 4$

$84 : 5$

.....

.....

.....

.....

.....

.....

.....

.....

.....

.....

.....

.....

.....

.....

.....

.....

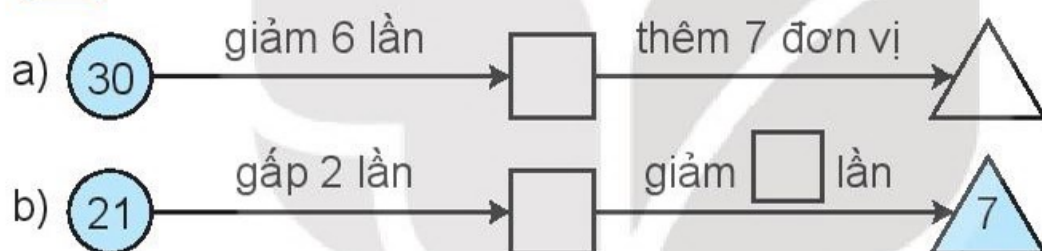
.....

.....

.....

.....

2 Số ?



3 Bờm có một cây tre dài 19 m. Để làm chiếc cổng tre, Bờm phải chặt cây tre đó thành các đoạn dài 3 m. Hỏi Bờm có thể có nhiều nhất bao nhiêu đoạn tre như vậy?

Bài giải

.....
.....
.....
.....

4 Hôm qua cửa hàng của bác Sáu bán được 47 kg chà bông. Hôm nay áp dụng khuyến mãi, số chà bông bác Sáu bán được gấp 2 lần so với hôm qua. Hỏi hôm nay bác Sáu bán được bao nhiêu ki-lô-gam chà bông?

Bài giải

.....
.....
.....
.....

Tiết 1

1 ✎ Viết số thích hợp vào chỗ chấm.


$$3 \text{ cm} = \dots \text{ mm} \quad 20 \text{ mm} = \dots \text{ cm} \quad 5 \text{ cm} = \dots \text{ mm}$$

$$10 \text{ cm} = \dots \text{ mm} \quad 1 \text{ m} = \dots \text{ cm} \quad 1 \text{ m} = \dots \text{ mm}$$

2 ✎ Viết số thích hợp vào chỗ chấm.



Đoạn thẳng AB dài mm.



Đoạn thẳng CD dài mm.

3 ✎ Viết tiếp vào chỗ chấm cho thích hợp.

Cào cào, bọ ngựa và châu chấu thi nhảy xa được thành tích lần lượt là 3 cm, 15 mm, 20 mm.

a) Thành tích nhảy xa của là tốt nhất.

b) Thành tích nhảy xa của là kém nhất.

4 ✎ Mỗi tấm gỗ ép dày 2 mm. Người ta ghép chồng 7 tấm gỗ như vậy với nhau để làm một tấm gỗ công nghiệp. Hỏi tấm gỗ công nghiệp dày bao nhiêu mi-li-mét? (Bỏ qua độ dày của lớp keo dính.).

Bài giải

.....

.....

.....

.....

Tiết 2

1 ✎ Viết số thích hợp vào chỗ chấm.

a) $150 \text{ mm} + 400 \text{ mm} = \dots \text{ mm}$

$45 \text{ mm} + 2 \text{ mm} = \dots \text{ mm}$

b) $450 \text{ mm} - 180 \text{ mm} = \dots \text{ mm}$

$72 \text{ mm} - 34 \text{ mm} = \dots \text{ mm}$

c) $37 \text{ mm} \times 2 = \dots \text{ mm}$

$72 \text{ mm} : 3 = \dots \text{ mm}$

2 ✎ Viết số thích hợp vào chỗ chấm.

a) 24 mm giảm 8 lần → $\dots \text{ mm}$ b) 49 mm gấp 2 lần → $\dots \text{ mm}$

c) 96 mm giảm 4 lần → $\dots \text{ mm}$ d) 18 mm gấp 5 lần → $\dots \text{ mm}$

3 ✎ Một búp măng ngày hôm qua cao 173 mm so với mặt đất. Ngày hôm nay búp măng đó đã cao 292 mm so với mặt đất. Hỏi sau một ngày, búp măng đó cao thêm được bao nhiêu mi-li-mét?

Bài giải

.....
.....
.....

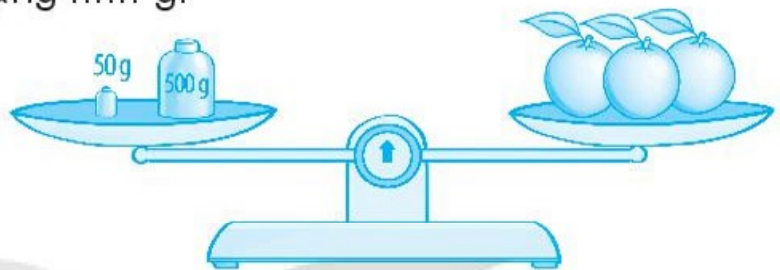
4 ✎ Lượng mưa đo được vào ngày thứ Ba là 17 mm . Ngày thứ Tư cùng tuần đó lượng mưa đo được gấp 4 lần ngày thứ Ba. Hỏi lượng mưa đo được vào ngày thứ Tư là bao nhiêu mi-li-mét?

Bài giải

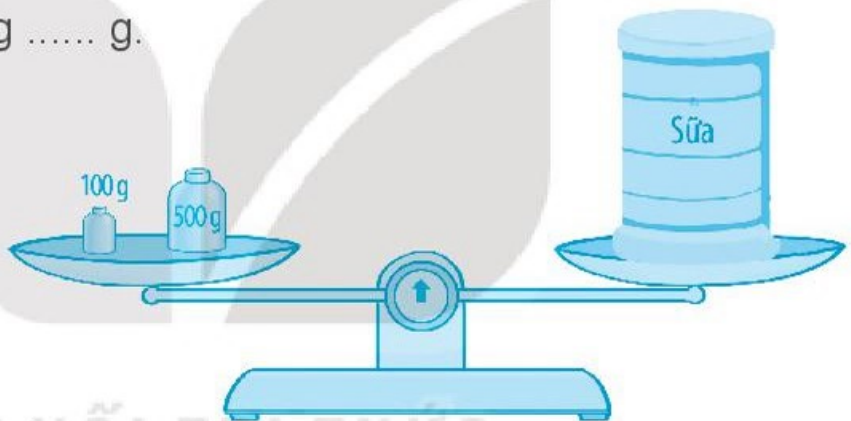
.....
.....
.....

1 ✍️ Viết số thích hợp vào chỗ chấm.

a) Ba quả cam cân nặng g.



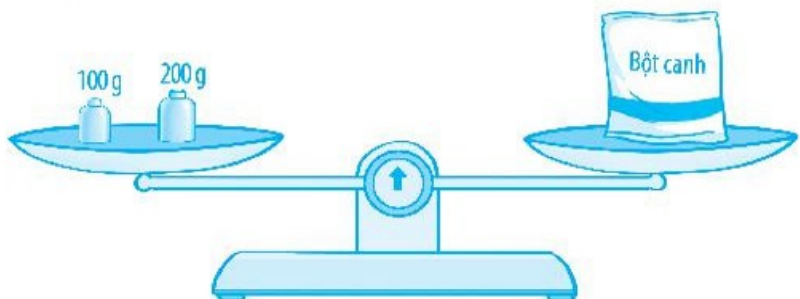
b) Hộp sữa cân nặng g.



c) Gói mì chính cân nặng g.



d) Gói bột canh cân nặng g.



2 ✎ Viết số thích hợp vào chỗ chấm.



- a) Túi táo cân nặng g.
- b) Gói bột mì cân nặng g.
- c) Gói bột mì nhẹ hơn túi táo là g.

3 ✎ Viết số thích hợp vào chỗ chấm.

- a) $250\text{ g} + 180\text{ g} = \dots\dots\dots\text{ g}$
- b) $8\text{ g} \times 9 = \dots\dots\dots\text{ g}$
- $430\text{ g} - 250\text{ g} = \dots\dots\dots\text{ g}$
- $72\text{ g} : 9 = \dots\dots\dots\text{ g}$
- $430\text{ g} - 180\text{ g} = \dots\dots\dots\text{ g}$
- $72\text{ g} : 8 = \dots\dots\dots\text{ g}$

4 ✎ Trong lọ có 1 kg đường. Mẹ đã lấy ra hai lần, một lần 150 g và một lần 200 g để nấu chè đỗ đen. Hỏi trong lọ còn lại bao nhiêu gam đường?

Bài giải

Đổi: $1\text{ kg} = \dots\dots\dots\text{ g}$

.....

.....

.....

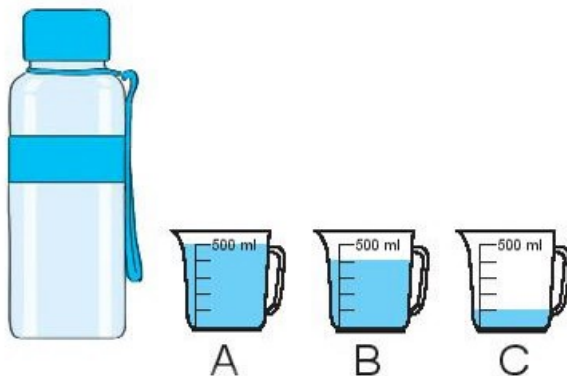
.....

.....

1 ✎ Viết số thích hợp vào chỗ chấm.

Rót hết nước từ bình sang 3 ca (như hình vẽ).

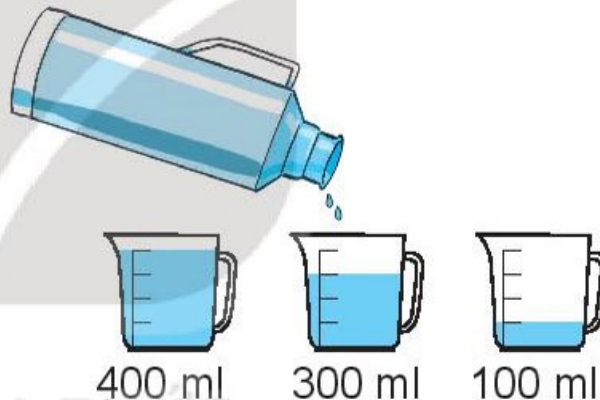
a) Ca A có 500 ml nước, ca B có ml nước, ca C có ml nước.



b) Lúc đầu, lượng nước trong bình có là ml.

2 ✎ Viết số thích hợp vào chỗ chấm.

Trong phích có 1 l nước. Rót nước ở phích sang 3 ca (như hình vẽ).



a) 1 l = ml.

b) Sau khi rót, lượng nước còn lại trong phích là ml.

3 ✎ Tính.

a) $250 \text{ ml} + 100 \text{ ml} = \dots\dots\dots$

$350 \text{ ml} - 250 \text{ ml} = \dots\dots\dots$

$350 \text{ ml} - 100 \text{ ml} = \dots\dots\dots$

b) $9 \text{ ml} \times 3 = \dots\dots\dots$

$27 \text{ ml} : 3 = \dots\dots\dots$

$27 \text{ ml} : 9 = \dots\dots\dots$

4 ✎ Trong bình có 1 l nước. Viết rót nước từ trong bình đó vào đầy một ca 500 ml và một ca 300 ml. Hỏi trong bình còn lại bao nhiêu mi-li-lít nước?

Bài giải

Đổi 1 l = ml

.....

1 ✍️ Viết tiếp vào chỗ chấm cho thích hợp.

Có một ngày, nhiệt độ không khí ở ba địa phương được cho như bảng bên.

Nha Trang	Sa Pa	Hạ Long
32 °C	15 °C	26 °C

- a) Nhiệt độ không khí ở Hạ Long cao hơn nhiệt độ không khí ở
- b) Nhiệt độ không khí ở cao nhất.
- c) Nhiệt độ không khí ở thấp nhất.

2 ✍️ Hoàn thành bảng (theo mẫu).

Viết	Đọc
20 °C	Hai mươi độ xê
	Ba mươi lăm độ xê
	Ba mươi mốt độ xê
15 °C	

3 ✍️ **Số ?**

Nhiệt độ cơ thể của ba người lần lượt đo được là 38 °C, 36 °C, 37 °C. Biết rằng nhiệt độ cơ thể của người thứ nhất cao nhất, của người thứ hai thấp nhất. Người thứ ba có nhiệt độ cơ thể là °C.

4 ✍️ Viết tiếp vào chỗ chấm cho thích hợp.

Nhiệt độ không khí trong cùng một ngày vào một số buổi ở một địa phương theo bảng bên.

Sáng sớm	Trưa	Chiều	Đêm
18 °C	30 °C	24 °C	12 °C

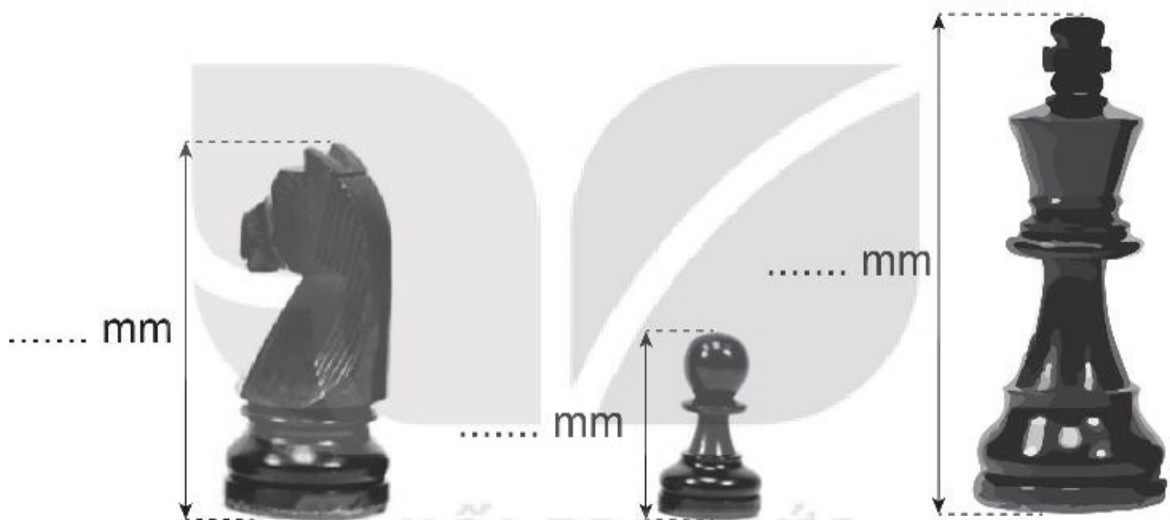
Nhiệt độ không khí từng buổi viết theo thứ tự từ cao nhất đến thấp nhất là:

BÀI 34

THỰC HÀNH VÀ TRẢI NGHIỆM VỚI CÁC ĐƠN VỊ MI-LI-MÉT, GAM, MI-LI-LÍT, ĐỘ C

Tiết 1

1 ✓ Đo chiều cao các quân cờ rồi viết số thích hợp vào chỗ chấm.



2 ✓ Khoanh vào chữ đặt trước kết quả thích hợp.

- a) Quân xe trong bộ cờ vua cân nặng khoảng: A. 10 g B. 1 kg
b) Gói đường cân nặng khoảng: A. 10 g B. 1 kg
c) Quả tạ tay cân nặng khoảng: A. 500 g B. 5 kg

3 ✓ Sử dụng nhiệt kế, em hãy đo nhiệt độ không khí vào một số ngày trong tuần rồi ghi lại theo bảng sau.

Ngày	Thứ Năm	Thứ Sáu	Thứ Bảy	Chủ nhật
Nhiệt độ				

4 ✎ Mai có quả cân 100 g và quả cân 200 g, cùng một chiếc cân thăng bằng. Bạn ấy có một túi gạo nặng 1 kg. Với một lần cân, em hãy chỉ cách giúp Mai lấy ra:

a) 300 g gạo.

b) 700 g gạo.

Cách làm

.....

.....

.....

.....

.....

.....

.....



Tiết 2

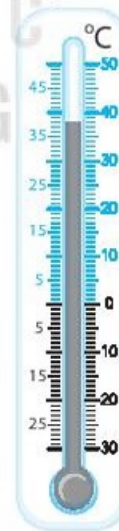
1 ✎ Đọc số đo nhiệt độ ở mỗi nhiệt kế sau rồi viết kết quả vào chỗ chấm.



..... °C



..... °C



..... °C

2 ✎ Nói mỗi vật với cân nặng thích hợp trong thực tế.



Xe đạp trẻ em



Máy tính xách tay



Bút máy

20 g

20 kg

2 kg

3 ✎ Viết tiếp vào chỗ chấm cho thích hợp.



A



B



C



D

a) Ca đựng nhiều nước nhất.

b) Hai ca và đựng tất cả 500 ml nước.

c) Ca A đựng nhiều hơn ca D ml nước.

4 ✎ Dùng hai cái ca loại 250 ml và 100 ml, hãy tìm cách lấy ra được đúng 50 ml nước từ chậu nước.

Cách làm

.....

.....

.....

.....

.....

.....

Tiết 1

1 ✎ Viết số thích hợp vào chỗ chấm.

a) $832 \text{ mm} - 228 \text{ mm} = \dots \text{ mm}$ b) $215 \text{ ml} + 37 \text{ ml} = \dots \text{ ml}$

$37 \text{ g} + 182 \text{ g} = \dots \text{ g}$

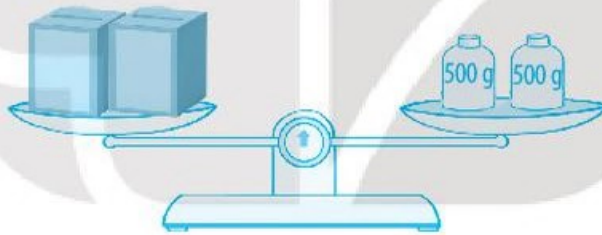
$32 \text{ ml} - 15 \text{ ml} + 80 \text{ ml} = \dots \text{ ml}$

$127 \text{ mm} + 328 \text{ mm} = \dots \text{ mm}$

$57 \text{ g} - 37 \text{ g} + 50 \text{ g} = \dots \text{ g}$

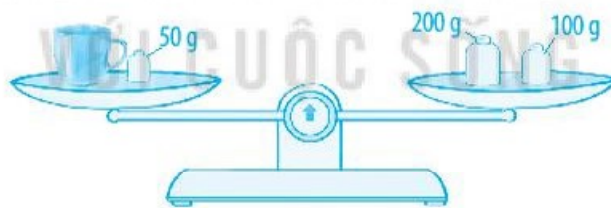
2 ✎ Viết tiếp vào chỗ chấm cho thích hợp (theo mẫu).

a)



Mỗi kiện hàng cân nặng g.

b)



Chiếc cốc cân nặng g.

3 ✎ Viết số thích hợp vào chỗ chấm.

a) 42 mm giảm 2 lần → mm

b) 42 mm gấp 2 lần → mm

c) 72 mm giảm 3 lần → mm

d) 38 mm gấp 2 lần → mm

- 4 ✎ Rô-bốt có hai cái cốc loại 250 ml và 400 ml. Chỉ dùng hai cái cốc đó, làm thế nào để Rô-bốt lấy được 100 ml nước từ chậu nước?

Cách làm

.....

.....

.....

.....

.....

.....

.....

Tiết 2

- 1 ✎ Viết số thích hợp vào chỗ chấm.

a) $24 \text{ mm} \xrightarrow{\times 4} \dots \text{ mm} \xrightarrow{: 3} \dots \text{ mm}$

b) $60 \text{ ml} \xrightarrow{: 4} \dots \text{ ml} \xrightarrow{\times 2} \dots \text{ ml}$

- 2 ✎ Viết tiếp vào chỗ chấm cho thích hợp.

Bạn Nam bị ốm. Bác sĩ vừa đo nhiệt độ cơ thể của bạn Nam được kết quả như hình dưới đây.



a) Nhiệt độ cơ thể của Nam mà bác sĩ đo được là °C.

b) Theo em, Nam có bị sốt không? Vì sao?

Trả lời:

- 3 ✎ Viết dùng một hộp sữa loại 250 ml để làm bánh. Theo công thức làm bánh, bạn ấy chỉ cần dùng 80 ml sữa. Hỏi sau khi làm bánh xong, Việt còn lại bao nhiêu mi-li-lít sữa?

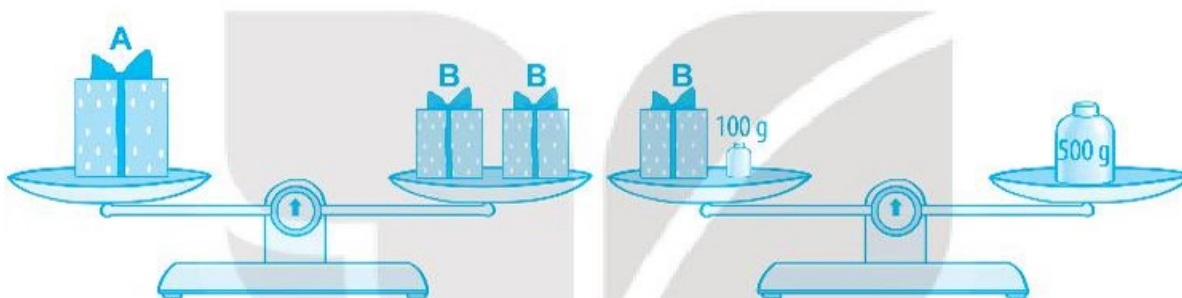
Bài giải

.....

.....

.....

- 4 ✎ Quan sát hình sau rồi tìm cân nặng của hộp quà A và mỗi hộp quà B. Biết rằng các hộp quà B có cân nặng như nhau.



Bài giải

KẾT NỐI TRI THỨC
VỚI CUỘC SỐNG

.....

.....

.....

.....

.....

.....

Tiết 1

1 ✎ Tính.

$$\begin{array}{r} 314 \\ \times 2 \\ \hline \end{array}$$

.....

$$\begin{array}{r} 150 \\ \times 5 \\ \hline \end{array}$$

.....

$$\begin{array}{r} 251 \\ \times 3 \\ \hline \end{array}$$

.....

$$\begin{array}{r} 224 \\ \times 4 \\ \hline \end{array}$$

.....

2 ✎ Đặt tính rồi tính.

230×3

.....

.....

.....

123×2

.....

.....

.....

237×2

.....

.....

.....

205×4

.....

.....

.....

3 ✎ Mai vừa hoàn thành quãng đường chạy dài 250 m. Cùng thời gian đó, Việt chạy được quãng đường dài gấp 3 lần quãng đường chạy của Mai. Hỏi Việt chạy được quãng đường dài bao nhiêu mét?

Bài giải

.....

.....

.....

.....

4 ✎ Khoanh vào chữ đặt trước câu trả lời đúng.

Rô-bốt đã viết 4 trong 5 số: 2, 3, 5, 100, 250 vào các ô trống ở hình bên để được so sánh đúng.

$$\square \times \square = \square \times \square$$

Hỏi Rô-bốt không viết số nào?

- A. 2 B. 3 C. 5 D. 250

Tiết 2

1 Số ?

Thừa số	105	120	126	141
Thừa số	2	5	4	6
Tích				

2 Tính nhẩm.

Mẫu: $200 \times 4 = ?$ Nhẩm: 2 trăm \times 4 = 8 trăm. Vậy: $200 \times 4 = 800$.

$200 \times 3 = \dots$ $500 \times 2 = \dots$ $300 \times 2 = \dots$ $600 \times 1 = \dots$

- 3 Trên một hòn đảo đang có 420 con cừu. Sau mỗi năm số lượng cừu trên đảo sẽ tăng thêm 180 con. Hỏi sau 2 năm, trên đảo đó sẽ có tất cả bao nhiêu con cừu?

Bài giải

.....
.....
.....
.....
.....

- 4 Mai có 1 kg bột mì. Bạn ấy đã làm 3 chiếc bánh gối, mỗi chiếc bánh dùng 200 g bột mì. Hỏi Mai còn lại bao nhiêu gam bột mì?

Bài giải

.....
.....
.....
.....
.....

5 Tính nhẩm (theo mẫu).

Mẫu: $120 \times 2 = ?$ Nhẩm: 12 chục \times 2 = 24 chục. Vậy: $120 \times 2 = 240$.

$210 \times 3 = \dots$ $340 \times 2 = \dots$ $110 \times 4 = \dots$

CHIA SỐ CÓ BA CHỮ SỐ CHO SỐ CÓ MỘT CHỮ SỐ

Tiết 1

1 Tính.

$$\begin{array}{r} 375 \quad | \quad 3 \\ \hline \dots\dots \\ \dots\dots \\ \dots\dots \\ \dots\dots \\ \dots\dots \end{array}$$

$$\begin{array}{r} 448 \quad | \quad 2 \\ \hline \dots\dots \\ \dots\dots \\ \dots\dots \\ \dots\dots \\ \dots\dots \end{array}$$

$$\begin{array}{r} 627 \quad | \quad 4 \\ \hline \dots\dots \\ \dots\dots \\ \dots\dots \\ \dots\dots \\ \dots\dots \end{array}$$

2 Thuyền trưởng tìm được một chiếc hòm đựng rất nhiều đồng vàng. Thuyền phó tìm được chiếc hòm đựng 548 đồng vàng, nhiều gấp 2 lần số đồng vàng mà thuyền trưởng tìm được. Hỏi thuyền trưởng tìm được bao nhiêu đồng vàng?

Bài giải

.....
.....
.....

3 Viết số thích hợp vào chỗ chấm.

a) 124 giờ giảm 4 lần \rightarrow $\dots\dots \text{ giờ}$ b) 702 dm giảm 9 lần \rightarrow $\dots\dots \text{ dm}$

c) 384 kg giảm 6 lần \rightarrow $\dots\dots \text{ kg}$ d) 343 l giảm 7 lần \rightarrow $\dots\dots \text{ l}$

4 ✎ Khoanh vào chữ đặt trước câu trả lời đúng.

Rô-bốt đã điền 4 trong 5 số: 2, 4, 5, \square : \square = \square : \square
124, 155 vào các ô trống ở hình bên để được so sánh đúng.

Hỏi Rô-bốt có thể viết những số nào vào ô trống cuối cùng?

- A. 2 hoặc 4 B. 4 hoặc 5 C. 2 hoặc 5 D. 124 hoặc 155

Tiết 2

1 ✎ Đặt tính rồi tính.

$$250 : 2$$

.....
.....
.....
.....

$$407 : 4$$

.....
.....
.....
.....

$$210 : 7$$

.....
.....
.....
.....

2 ✎ Hôm qua là ngày cuối tuần nên cửa hàng bánh rất đông khách. Họ bán được 450 cái bánh. Hôm nay là ngày đi làm, nên số bánh bán được giảm đi 5 lần so với hôm qua. Hỏi hôm nay cửa hàng bán được bao nhiêu cái bánh?

Bài giải

.....
.....
.....
.....

3 ✎ Đ, S ?

$$\begin{array}{r} \text{a) } 240 \overline{) 4} \\ \underline{24} \\ 00 \\ \underline{0} \\ 0 \end{array}$$

Vậy $240 : 4 = 6$ (dư 0).

$$\begin{array}{r} \text{b) } 425 \overline{) 6} \\ \underline{42} \\ 05 \\ \underline{0} \\ 5 \end{array}$$

Vậy $425 : 6 = 70$ (dư 5).

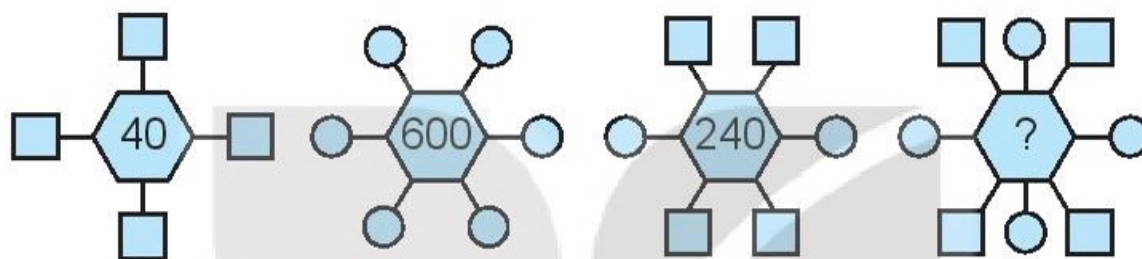
$$\begin{array}{r} \text{c) } 812 \overline{) 8} \\ \underline{8} \\ 01 \\ \underline{0} \\ 12 \\ \underline{12} \\ 0 \end{array}$$

Vậy $812 : 8 = 104$.

$$\begin{array}{r} \text{d) } 354 \overline{) 5} \\ \underline{35} \\ 04 \end{array}$$

Vậy $354 : 5 = 7$ (dư 4).

4 ✎ Khoanh vào chữ đặt trước câu trả lời đúng.



Số nào dưới đây thích hợp để điền vào dấu “?” trong hình trên?

A. 80

B. 800

C. 400

D. 440

Tiết 3

KẾT NỐI TRI THỨC VỚI CUỘC SỐNG

1 ✎ Đặt tính rồi tính.

$317 : 3$

.....

.....

.....

.....

$625 : 5$

.....

.....

.....

.....

$125 : 6$

.....

.....

.....

.....

2 ✎ Tính nhẩm (theo mẫu).

Mẫu: $240 : 4 = ?$ Nhẩm: 24 chục : 4 = 6 chục. Vậy: $240 : 4 = 60$.

$270 : 3 = \dots\dots$

$450 : 9 = \dots\dots$

$360 : 6 = \dots\dots$

- 3 ✎ Bác gấu vừa thu hoạch được 930 ml mật ong. Bác đã chia đều lượng mật ong đó vào 3 cái hũ. Hỏi mỗi hũ chứa bao nhiêu mi-li-lít mật ong?

Bài giải

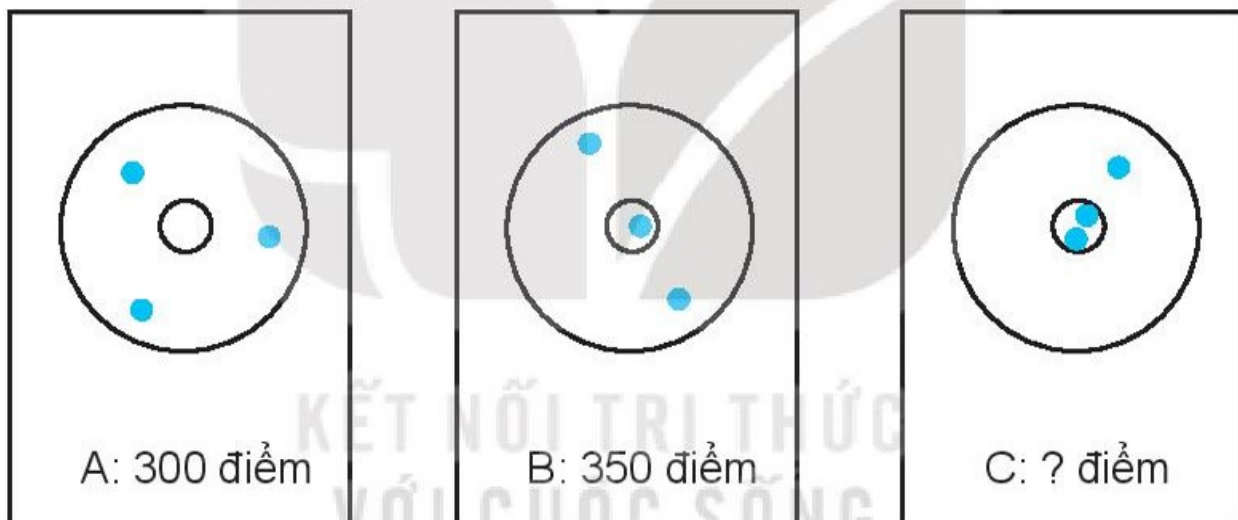
.....

.....

.....

- 4 ✎ Khoanh vào chữ đặt trước câu trả lời đúng.

Mỗi vận động viên A, B, C vừa hoàn thành 3 lượt bắn cung. Kết quả và số điểm mà họ nhận được như sau:

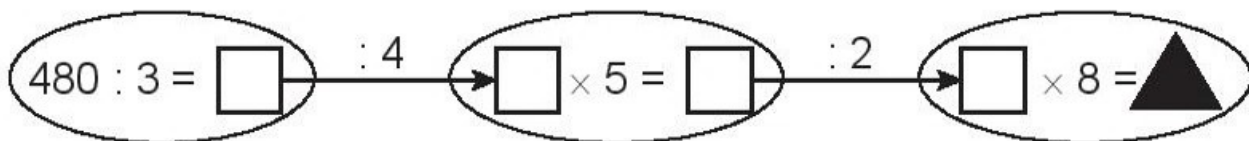


Số điểm mà vận động viên C nhận được là:

- A. 500 điểm B. 450 điểm C. 400 điểm

- 5 ✎ Viết số thích hợp vào chỗ chấm.

Rô-bốt đã thực hiện một dãy các phép tính như trong hình dưới đây.



Số được điền ở vị trí hình tam giác màu đen là:

BIỂU THỨC SỐ. TÍNH GIÁ TRỊ CỦA BIỂU THỨC SỐ

Tiết 1

1 ✎ Tính giá trị của biểu thức (theo mẫu).

Mẫu: $48 - 25 + 29 = 23 + 29$
 $= 52$

a) $162 + 29 - 18 = \dots\dots\dots$
 $= \dots\dots\dots$

b) $18 \times 7 = \dots\dots\dots$
 $= \dots\dots\dots$

c) $84 : 6 = \dots\dots\dots$
 $= \dots\dots\dots$

2 ✎ Nói mỗi biểu thức với số là giá trị của biểu thức đó (theo mẫu).



$81 : 9$



$36 + 17 - 45$



$62 - 45 + 28$



17×3

51

9

8

45

3 ✎ Khoanh màu đỏ vào chữ đặt dưới ô ghi biểu thức có giá trị lớn nhất, màu xanh vào chữ đặt dưới ô ghi biểu thức có giá trị bé nhất.

$49 + 27 - 58$

A

18×4

B

$56 - 18 + 23$

C

$93 : 3$


D

Tiết 1

1 Số ?

Số lớn	8	8	20	70
Số bé	4	2	5	7
Số lớn gấp mấy lần số bé?	2			

2 Số ?



- a) Đoạn thẳng AB dài hơn đoạn thẳng CD là cm.
 b) Đoạn thẳng AB dài gấp lần đoạn thẳng CD.

3 Lớp học cờ vua có 27 bạn, lớp học đá cầu có 9 bạn. Hỏi số bạn học cờ vua gấp mấy lần số bạn học đá cầu?

Bài giải

.....

.....

.....

Tiết 2

1 Số ?

Số lớn	10	18	35	48
Số bé	2	6	7	8
Số lớn hơn số bé bao nhiêu đơn vị?	8			
Số lớn gấp mấy lần số bé?	5			

2 Số ?



3 Con chó cân nặng 18 kg. Con gà cân nặng 2 kg. Con ngỗng cân nặng 6 kg. Hỏi:

- a) Con chó nặng gấp mấy lần con ngỗng?
b) Con ngỗng nặng gấp mấy lần con gà?
c) Con chó nặng gấp mấy lần con gà?

Bài giải

4 Số ?

- a) Số 24 gấp lần số 6.
c) Số 24 gấp lần số 8.

- b) Số 24 gấp lần số 2.
d) Số 24 gấp lần số 4.

Tiết 1

1 Đặt tính rồi tính.

116×5

308×3

$815 : 5$

$642 : 3$

.....

.....

.....

.....

.....

.....

.....

.....

.....

.....

.....

.....

.....

.....

2 Số ?

a) Số 12 gấp lên 3 lần được số .

b) Số 12 giảm đi 2 lần được số .

c) Số tìm được ở câu a gấp lần số tìm được ở câu b.

3 Can thứ nhất có 2 l nước. Số lít nước ở can thứ hai gấp 5 lần số lít nước ở can thứ nhất. Hỏi:

a) Cả hai can có bao nhiêu lít nước?

b) Can thứ hai có nhiều hơn can thứ nhất bao nhiêu lít nước?

Bài giải

.....
.....
.....
.....
.....
.....
.....
.....

Tiết 2


1 a) Tính giá trị của biểu thức.

$$473 + 18 - 215 = \dots\dots\dots \quad 370 - (319 - 270) = \dots\dots\dots$$
$$= \dots\dots\dots \quad = \dots\dots\dots$$

$$185 + 71 \times 2 = \dots\dots\dots \quad 38 + 72 \times 3 = \dots\dots\dots$$
$$= \dots\dots\dots \quad = \dots\dots\dots$$

b) Viết biểu thức vào chỗ chấm cho thích hợp.

Trong câu a, biểu thức có giá trị lớn nhất là
biểu thức có giá trị bé nhất là


2  Máy tháng trước, bác Năm mua một con lợn cân nặng 9 kg về nuôi. Bây giờ con lợn đó cân nặng 36 kg. Hỏi:

a) Bây giờ con lợn cân nặng gấp mấy lần lúc mới mua về?

b) Bây giờ con lợn đó nặng hơn lúc mới mua về bao nhiêu ki-lô-gam?

Bài giải

.....
.....
.....
.....
.....

3  Tính giá trị của biểu thức bằng cách thuận tiện.

$$a) 9 \times 2 \times 5 = \dots\dots\dots \quad b) 5 \times 7 \times 2 = \dots\dots\dots$$
$$= \dots\dots\dots \quad = \dots\dots\dots$$
$$= \dots\dots\dots \quad = \dots\dots\dots$$

4  Số ?

40 giảm đi 5 lần thì được một số. Vậy 40 gấp số đó là lần.

Tiết 1

1 ✎ Tính nhẩm.

- a) $30 \times 2 = \dots$ $20 \times 4 = \dots$ $50 \times 2 = \dots$ $20 \times 2 = \dots$
 b) $60 : 3 = \dots$ $100 : 2 = \dots$ $40 : 2 = \dots$ $90 : 3 = \dots$

2 ✎ Đặt tính rồi tính.

- a) 46×2 13×7 29×3

- b) $82 : 2$ $72 : 6$ $97 : 9$

KẾT NỐI TRI THỨC
VỚI CUỘC SỐNG

3 ✎ Đ, S ?

- a)
$$\begin{array}{r} 23 \\ \times 4 \\ \hline 62 \end{array}$$
- b)
$$\begin{array}{r} 18 \\ \times 5 \\ \hline 90 \end{array}$$
- c)
$$\begin{array}{r} 92 \\ 7 \\ \hline 22 \\ 14 \\ \hline 8 \end{array} \left| \begin{array}{l} 7 \\ 12 \end{array} \right.$$
- d)
$$\begin{array}{r} 74 \\ 4 \\ \hline 34 \\ 32 \\ \hline 2 \end{array} \left| \begin{array}{l} 4 \\ 18 \end{array} \right.$$

4 ✎ Có 6 xe ô tô chở học sinh đi thăm Bảo tàng Lịch sử Việt Nam, mỗi xe chở 32 học sinh. Hỏi có tất cả bao nhiêu học sinh đi thăm Bảo tàng Lịch sử Việt Nam?

Bài giải

.....
.....
.....

5 ✎ Một thùng có 46 l nước mắm. Hỏi cần ít nhất bao nhiêu cái can loại 7 l để chứa hết lượng nước mắm đó?

Bài giải

.....
.....
.....

Tiết 2

1 ✎ Tính nhẩm.

a) $200 \times 3 = \dots\dots$ $300 \times 2 = \dots\dots$ $200 \times 2 = \dots\dots$ $100 \times 6 = \dots\dots$

b) $900 : 3 = \dots\dots$ $600 : 2 = \dots\dots$ $800 : 8 = \dots\dots$ $1\ 000 : 5 = \dots\dots$

2 ✎ Đặt tính rồi tính.

a) 312×3

105×7

81×9

.....

.....

.....

.....

.....

.....

.....

.....

.....

b) $936 : 3$

$852 : 6$

$690 : 8$

.....

.....

.....

.....

.....

.....

.....

.....

.....

3 **Đ, S ?**

$$\begin{array}{r} \text{a) } 96 \\ \times 8 \\ \hline 728 \end{array} \square$$

$$\begin{array}{r} \text{b) } 108 \\ \times 5 \\ \hline 540 \end{array} \square$$

$$\begin{array}{r} \text{c) } 839 \overline{) 4} \\ 039 \overline{) 29} \\ 3 \end{array} \square$$

$$\begin{array}{r} \text{d) } 740 \overline{) 8} \\ 20 \overline{) 92} \\ 4 \end{array} \square$$

4 Một cửa hàng có 132 quả táo. Người ta xếp vào các khay, mỗi khay 6 quả táo. Hỏi xếp được bao nhiêu khay táo như vậy?

Bài giải

.....
.....
.....

5 Viết chữ số thích hợp vào ô trống.

$$\begin{array}{r} \text{a) } 1 \square 3 \\ \times 6 \\ \hline 61 \square \end{array}$$

$$\begin{array}{r} \text{b) } 4 \square \\ \times 7 \\ \hline \square \square 8 \end{array}$$

$$\begin{array}{r} \text{c) } \square \square 5 \\ \times 3 \\ \hline 64 \square \end{array}$$

Tiết 3

1 Khoanh vào chữ đặt trước câu trả lời đúng.

a) Kết quả của phép nhân 181×4 là:

- A. 424 B. 742 C. 724 D. 721

b) Kết quả của phép chia $806 : 2$ là:

- A. 43 B. 403 C. 430 D. 304

c) Số dư của phép chia $465 : 7$ là:

- A. 6 B. 5 C. 4 D. 3

2 SỐ ?

a) $\square \times 8 = 280$

b) $\square : 9 = 108$

c) $84 : \square = 6$

d) $\square \times 7 = 161$

3 Trong vườn nhà An có 19 cây chanh, số cây cam gấp 4 lần số cây chanh. Hỏi trong vườn nhà An có bao nhiêu cây chanh và cây cam?

Bài giải

.....

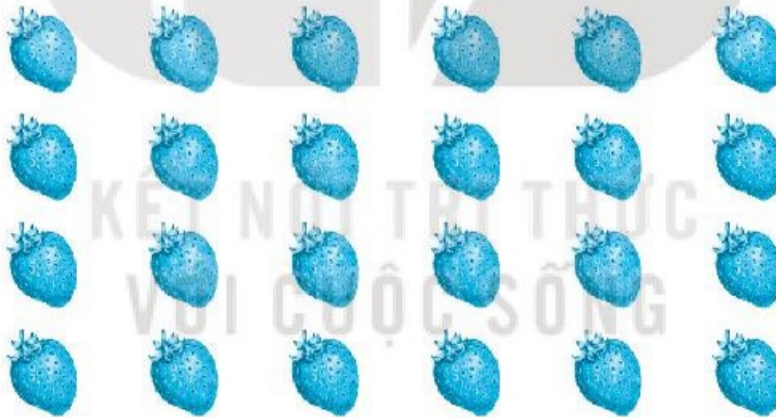
.....

.....

.....

.....

4 SỐ ?



a) $\frac{1}{6}$ số quả dâu tây là \square quả dâu tây.

b) $\frac{1}{8}$ số quả dâu tây là \square quả dâu tây.

5 Viết chữ số 0, 1, 2, 3 thích hợp vào ô trống.

$$\begin{array}{r}
 \square\square\square \\
 \times \quad \square \\
 \hline
 306
 \end{array}$$

Tiết 1**1** ✎ Tính giá trị của biểu thức.

a) $527 - 346 + 74 = \dots\dots\dots$
 $= \dots\dots\dots$

b) $72 \times 3 : 9 = \dots\dots\dots$
 $= \dots\dots\dots$

c) $28 + 45 - 60 = \dots\dots\dots$
 $= \dots\dots\dots$

d) $96 : 6 \times 8 = \dots\dots\dots$
 $= \dots\dots\dots$

2 ✎ Tính giá trị của biểu thức.

a) $24 \times 3 - 52 = \dots\dots\dots$
 $= \dots\dots\dots$

b) $518 + 70 : 5 = \dots\dots\dots$
 $= \dots\dots\dots$

c) $91 : 7 + 69 = \dots\dots\dots$
 $= \dots\dots\dots$

d) $200 - 18 \times 5 = \dots\dots\dots$
 $= \dots\dots\dots$

3 ✎ Khối lớp Ba của một trường tiểu học có 7 lớp, mỗi lớp có 31 học sinh và 1 lớp có 34 học sinh. Hỏi khối lớp Ba của trường đó có tất cả bao nhiêu học sinh?*Bài giải*

.....

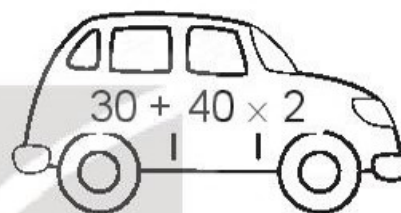
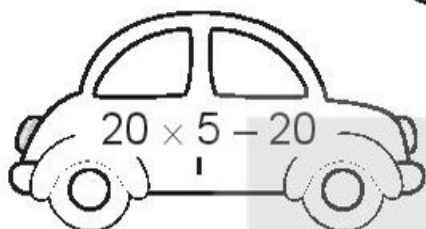
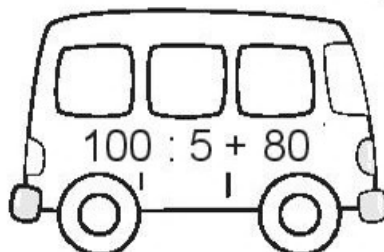
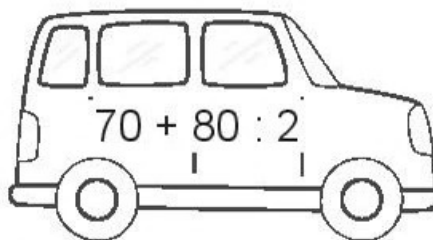
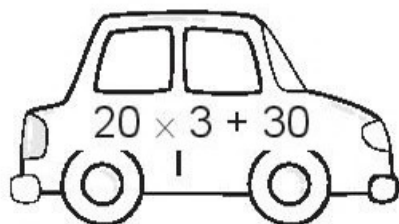
.....

.....

.....

.....

4 a) Tô màu vào các ô tô ghi biểu thức có giá trị lớn hơn 90.



b) Tô màu (khác với màu đã tô ở câu a) vào ô tô ghi biểu thức có giá trị bé nhất trong các biểu thức trên.

5 Viết dấu phép tính “+ , x” thích hợp vào ô trống.

$$4 \square 4 \square 4 = 20$$

Cách 1: $4 \square 4 \square 4 = 20$

Cách 2: $4 \square 4 \square 4 = 20$

Tiết 2

1 Tính giá trị của biểu thức.

a) $75 - (68 - 23) = \dots\dots\dots$ b) $8 \times (63 : 7) = \dots\dots\dots$

$= \dots\dots\dots$

$= \dots\dots\dots$

c) $67 + (56 + 44) = \dots\dots\dots$ d) $42 : (2 \times 3) = \dots\dots\dots$

$= \dots\dots\dots$

$= \dots\dots\dots$

Tiết 1

1 a) Số ?

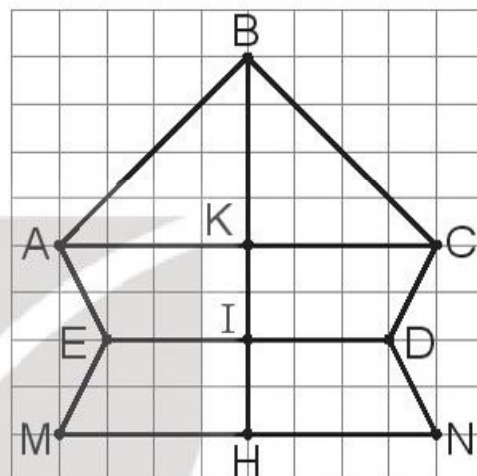
Trong hình bên có:

- góc không vuông đỉnh B;
- góc không vuông đỉnh A;
- góc vuông.

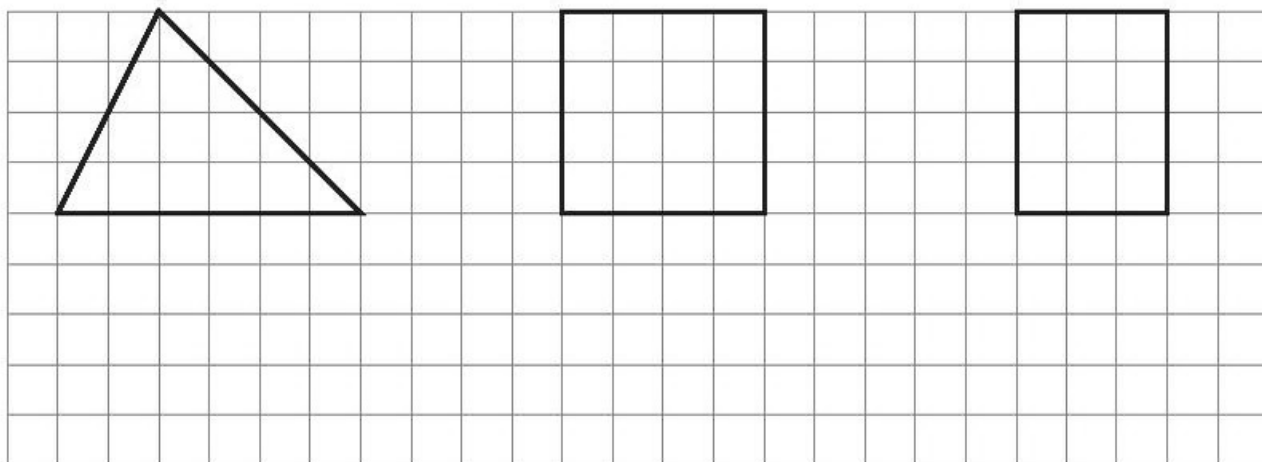
b) Viết tiếp vào chỗ chấm cho thích hợp.

Trong hình vẽ trên:

- Trung điểm của đoạn thẳng AC là điểm
- Trung điểm của đoạn thẳng ED là điểm
- Trung điểm của đoạn thẳng KH là điểm
- Trung điểm của đoạn thẳng BH là điểm
- Trung điểm của đoạn thẳng MN là điểm



2 Vẽ hình (theo mẫu).

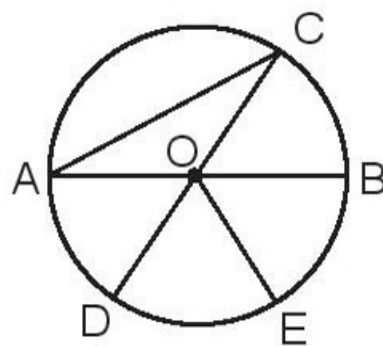


3 ✎ Viết tiếp vào chỗ chấm cho thích hợp.

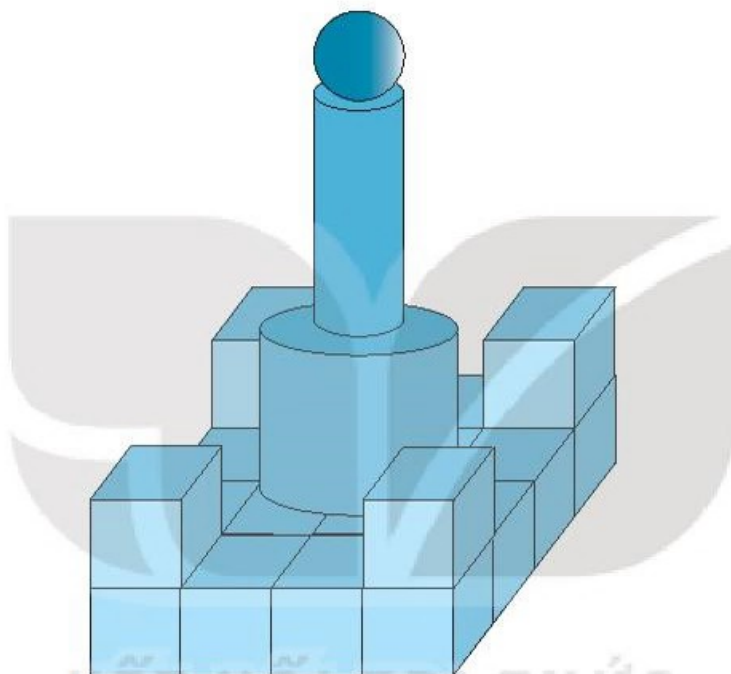
a) Các đường kính của hình tròn có trong hình bên là:

b) Các bán kính của hình tròn có trong hình bên là

c) Đường kính AB gấp lần bán kính OB.



4 ✎ Số ?



Trong hình trên có:

khối lập phương nhỏ; khối trụ; khối cầu.

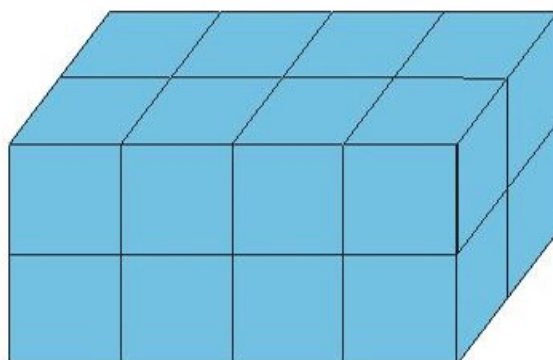
5 ✎ Số ?

Người ta xếp các khối gỗ dạng khối lập phương nhỏ thành khối hộp chữ nhật (như hình vẽ) rồi sơn màu xanh tất cả các mặt bên ngoài.

Trong hình bên có:

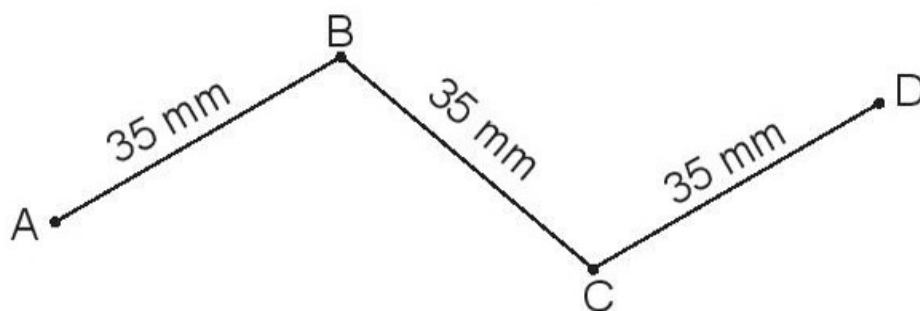
a) khối gỗ được sơn 3 mặt.

b) khối gỗ được sơn 2 mặt.



Tiết 2

1 a) Viết tiếp vào chỗ chấm cho thích hợp.



Độ dài đường gấp khúc ABCD là: =

b) Viết số thích hợp vào chỗ chấm.



Cả ba quả xoài cân nặng g.

2 Khoanh vào chữ đặt trước kết quả thích hợp.

a) Hộp bút dày khoảng:

- A. 15 cm B. 15 mm C. 15 dm



b) Cái bút bi cân nặng khoảng:

- A. 8 g B. 80 g C. 8 kg



c) Một bát (chén) đầy nước có khoảng:

- A. 2 l nước B. 20 ml nước C. 200 ml nước



d) Em nên uống nước ở nhiệt độ khoảng:

- A. 25 °C B. 70 °C C. 100 °C

3 ✎ Tính.

a) $540 \text{ mm} + 260 \text{ mm} = \dots\dots\dots$

$180 \text{ mm} \times 4 = \dots\dots\dots$

$732 \text{ mm} - 32 \text{ mm} = \dots\dots\dots$

$720 \text{ mm} : 8 = \dots\dots\dots$

b) $327 \text{ ml} + 400 \text{ ml} = \dots\dots\dots$

$150 \text{ ml} \times 6 = \dots\dots\dots$

$1\ 000 \text{ ml} - 300 \text{ ml} = \dots\dots\dots$

$700 \text{ ml} : 7 = \dots\dots\dots$

c) $270 \text{ g} + 538 \text{ g} = \dots\dots\dots$

$240 \text{ g} \times 3 = \dots\dots\dots$

$730 \text{ g} - 430 \text{ g} = \dots\dots\dots$

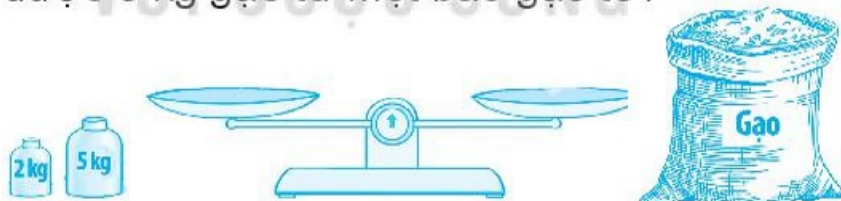
$960 \text{ g} : 6 = \dots\dots\dots$

4 ✎ Một gói mì tôm cân nặng 75 g, một hộp ngũ cốc cân nặng 500 g. Hỏi 5 gói mì tôm và 1 hộp ngũ cốc cân nặng bao nhiêu gam?

Bài giải

.....
.....
.....
.....
.....
.....

5 ✎ Có cái cân hai đĩa, một quả cân 5 kg và một quả cân 2 kg. Hỏi làm thế nào lấy được 3 kg gạo từ một bao gạo to?



Cách làm

.....
.....
.....
.....
.....

Tiết 1

1 Đặt tính rồi tính.

132×4

.....
.....
.....

209×4

.....
.....
.....

113×6

.....
.....
.....

2 Đặt tính rồi tính.

$75 : 5$

.....
.....
.....

$68 : 4$

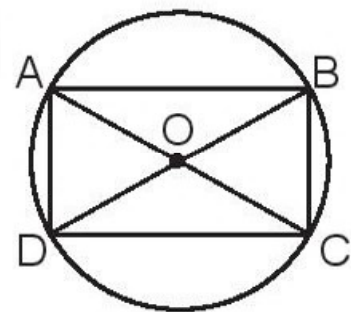
.....
.....
.....

$96 : 6$

.....
.....
.....

3 Viết vào chỗ chấm cho thích hợp.

Cho hình chữ nhật ABCD và hình tròn tâm O như hình vẽ.



a) O là trung điểm của đoạn thẳng và đoạn thẳng

b) Các góc vuông có trong hình vẽ là:

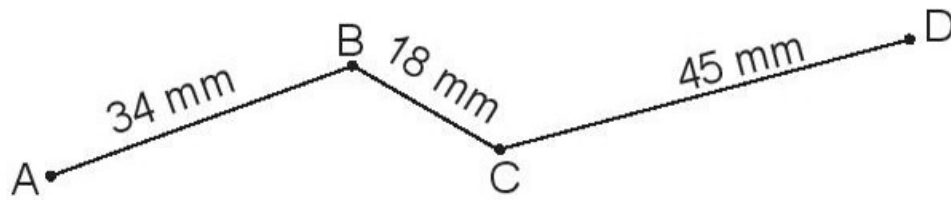
.....

c) Các góc không vuông có chung đỉnh O là:

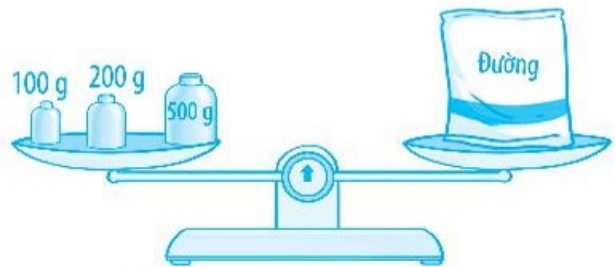
.....

3 ✎ Viết số thích hợp vào chỗ chấm.

a) Độ dài đường gấp khúc ABCD như hình dưới đây là mm.



b) Túi đường trong hình bên cân nặng g.



c) Rót hết nước từ một cái bình được 3 ca nước như hình vẽ.



Lượng nước ban đầu trong bình là ml.

4 ✎ Tính giá trị của biểu thức.

a) $32 \times 6 : 3 = \dots\dots\dots$ b) $32 \times (6 - 3) = \dots\dots\dots$
= =

5 ✎ Một đội trồng cây, ngày đầu trồng được 235 cây, ngày sau trồng được nhiều hơn ngày đầu 80 cây. Hỏi cả hai ngày đội trồng cây đó trồng được bao nhiêu cây?

Bài giải

.....
.....
.....
.....
.....

Nhà xuất bản Giáo dục Việt Nam xin trân trọng cảm ơn các tác giả có tác phẩm, tư liệu được sử dụng, trích dẫn trong cuốn sách này.

Chịu trách nhiệm xuất bản:

Chủ tịch Hội đồng Thành viên NGUYỄN ĐỨC THÁI
Tổng Giám đốc HOÀNG LÊ BÁCH

Chịu trách nhiệm nội dung:

Tổng biên tập PHẠM VĨNH THÁI

Biên tập nội dung: LƯU THẾ SƠN – LÊ THỊ HỒNG VÂN

Thiết kế sách: PHẠM NGỌC THÀNH

Trình bày bìa: NGUYỄN BÍCH LA

Sửa bản in: PHAN THỊ THANH BÌNH – PHẠM THỊ TÌNH

Chế bản: CTCP DỊCH VỤ XUẤT BẢN GIÁO DỤC HÀ NỘI

Bản quyền thuộc Nhà xuất bản Giáo dục Việt Nam.

Tất cả các phần của nội dung cuốn sách này đều không được sao chép, lưu trữ, chuyển thể dưới bất kì hình thức nào khi chưa có sự cho phép bằng văn bản của Nhà xuất bản Giáo dục Việt Nam.

VỞ BÀI TẬP TOÁN 3 - TẬP MỘT

Mã số: G1BH3T001H22

In cuốn (QĐ), khổ 17 x 24cm.

In tại

Số ĐKXB: 520-2022/CXBIPH/5-280/GD

Số QĐXB: /QĐ-GD ngày ... tháng ... năm 2022

In xong và nộp lưu chiểu tháng năm

Mã số ISBN: Tập một: 978-604-0-31694-3

Tập hai: 978-604-0-31695-0



HUÂN CHƯƠNG HỒ CHÍ MINH



BỘ VỞ BÀI TẬP LỚP 3 – KẾT NỐI TRI THỨC VỚI CUỘC SỐNG

1. Vở bài tập Tiếng Việt 3, tập một
2. Vở bài tập Tiếng Việt 3, tập hai
3. Tập viết 3, tập một
4. Tập viết 3, tập hai
5. Vở bài tập Toán 3, tập một
6. Vở bài tập Toán 3, tập hai
7. Vở bài tập Tự nhiên và Xã hội 3
8. Vở bài tập Đạo đức 3
9. Vở bài tập Âm nhạc 3
10. Vở bài tập Mĩ thuật 3
11. Vở bài tập Công nghệ 3
12. Vở bài tập Tin học 3
13. Vở bài tập Hoạt động trải nghiệm 3
14. Tiếng Anh 3 – Global Success – Sách bài tập

Các đơn vị đầu mối phát hành

- **Miền Bắc:** CTCP Đầu tư và Phát triển Giáo dục Hà Nội
CTCP Sách và Thiết bị Giáo dục miền Bắc
- **Miền Trung:** CTCP Đầu tư và Phát triển Giáo dục Đà Nẵng
CTCP Sách và Thiết bị Giáo dục miền Trung
- **Miền Nam:** CTCP Đầu tư và Phát triển Giáo dục Phương Nam
CTCP Sách và Thiết bị Giáo dục miền Nam
- **Cửu Long:** CTCP Sách và Thiết bị Giáo dục Cửu Long

Sách điện tử: <http://hanhtrangso.nxbgd.vn>

Kích hoạt để mở học liệu điện tử: Cào lớp nhũ trên tem để nhận mã số. Truy cập <http://hanhtrangso.nxbgd.vn> và nhập mã số tại biểu tượng chia khoá.

